

◎ 国会や内閣について、次の問いに答えなさい。

(1) 次の文の (①) と (②) にあてはまる適切な語句を答えなさい。

国の政治の方針を決めるのが、国会の重要な仕事です。国会は (①) と (②) で構成されています。

(2) (1) のように二つの議院から成り立っている制度をなんというか、答えなさい。

(3) (2) のように国会が二つの議院に分かれているのはどうしてですか。その理由を次のア～ウから一つ選び、符号で答えなさい。

- ア 議案が多い時は、それぞれの議院で話し合えば早くすすめることができるから。
- イ 二つの議院で話し合うことで、政治の方向を慎重に決めることができるから。
- ウ 議院が二つあれば、一つの議案を同時に話し合うことができるから。

(4) 国会の働きについて説明している次の①～⑥の文について、正しいものには○、間違っているものには×をそれぞれ答えなさい。

- ① 裁判官を裁く裁判所をつくる。 ② 国の予算をつくって提出する。
- ③ 外国と結んだ条約を承認する。 ④ 内閣を信任しないことを決める。
- ⑤ 国の法律をつくる。 ⑥ 外国と条約を結ぶ。

(5) 内閣について述べた次の文の (①) ～ (⑤) の中にあてはまる語句を、次のア～コか選び、符号で答えなさい。

- ◎ 内閣で中心になるのは、国会で選ばれた (①) であり、首相ともよばれています。
- ◎ 内閣の下で、実際の仕事を担当するのは、教育や科学・文化・スポーツなどの仕事をする (②)、予算や財政などに関する仕事を行う (③)、国の行政組織や地方自治の仕事を行う (④)、皇室に関する仕事を行う (⑤) などの省や庁があります。

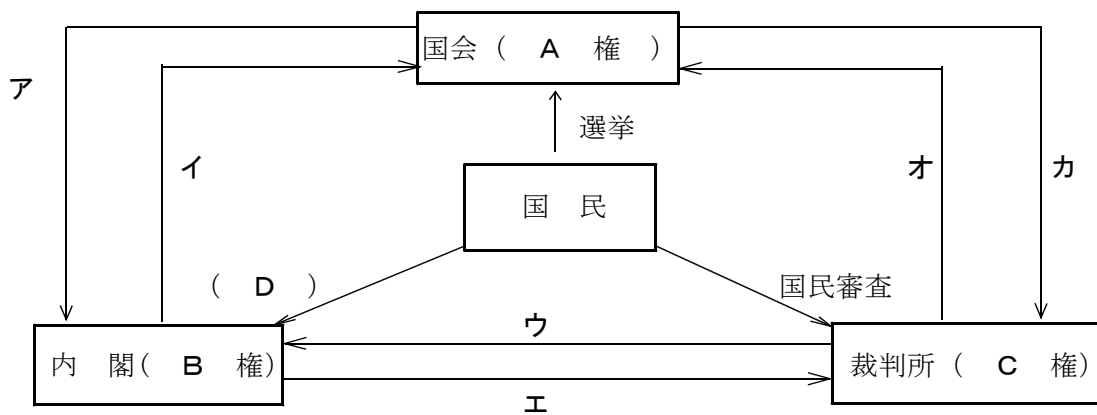
ア 金融庁 イ 環境省 ウ 大統領 エ 財務省 オ 国務大臣
 カ 法務省 キ 総務省 ク 宮内庁 ケ 内閣総理大臣 コ 文部科学省

解答欄

(1)	①	②	(2)		(3)	
(4)	①	②	③	④	⑤	⑥
(5)	①		②		③	
	④		⑤			

◎ 裁判所について述べた文と国会・内閣・裁判所の仕事の分担をあらわした下の図を見て、次の問いに答えなさい。

裁判所について
 裁判所は争いごとや犯罪を裁く時、(①) にもとづいて問題を解決し、国民の権利を守る仕事をしています。
 2009(平成21)年からは、国民が刑事裁判に参加する(②) が始まりました。
 これは国民が裁判について関心を持つとともに、国民の感覚や視点を裁判に生かすことを目的としています。



(1) 裁判所について述べている文の(①) (②) にあてはまる語句を、次のア～クから一つ選び、符号で答えなさい。

- ア 裁判官制度 イ 5回 ウ 法律 エ 条例 オ 3回
 カ 陪審員制度 キ 7回 ク 裁判員制度

(2) しくみ図中の(A)～(D)に入る語句を答えなさい。

(3) しくみ図が示すように、国会・内閣・裁判所が分担して政治を進める仕組みを何というか。漢字4字で答えなさい。

(4) 『法の精神』の著者で、権力の分立を主張したフランスの思想家を答えなさい。

(5) 次の各文は、しくみ図中のア～カのどれにあたりますか。符号で答えなさい。

- ① 法律が憲法に違反していないか調べる。(違憲立法審査権)
 ② 最高裁判所の長官を指名する。
 ③ 裁判官をやめさせるかどうかの裁判を行う。(弾劾裁判)
 ④ 衆議院の解散を決める。

解答欄

(1)	①					②
(2)	A		B		C	D
(3)					(4)	
(5)	①		②		③	④

公民3 第2章 私たちと政治 (2) 民主政治と政治参加<基本問題③>

組 番 名 前

◎ 次の問いに答えなさい。

(1) 次の選挙に関係する表を見て、次の問いに答えなさい。

	国	市町村・都道府県		
立候補者	衆議院議員 (25歳以上) 参議院議員 (30歳以上)	市町村長 (25歳以上)	都道府県・ 市町村の議会 議員 (25歳以上)	都道府県知事 (30歳以上)
有権者	18歳以上の国民			

- ① 30歳以上にならないと立候補することができない役職を二つ答えなさい。
- ② 市町村長や議員などを選ぶことのできる権利を答えなさい。
- ③ 政治や社会に対して、多くの人が共通してもっている意見のことを何というか、答えなさい。
- ④ 地方の政治を行う市町村や都道府県などのことを何というか、答えなさい。
- ⑤ 住民が自分たちの住んでいる地域を自主的に治めることを何というか、答えなさい。
- ⑥ 近年(1999年以降)、地方政治の力を強めて国と対等にしていくことが進められました。このことを何というか答えなさい。

(2) 次の問いに答えなさい。

① 次のア～カから、主に地方公共団体の仕事を三つ選び、符号で答えなさい。

- | | | |
|-----------|------------|---------|
| ア 上下水道の整備 | イ 条約の締結 | ウ 郵便事業 |
| エ 福祉施設の建設 | オ ごみの収集や処理 | カ 国政の調査 |

- ② 地方議会が制定して、その地方公共団体のみに適用される法を何というか、答えなさい。
- ③ 地方公共団体の仕事とは、住民の手で行われるという地方自治の原則で運営されるため「地方自治は、()の学校」と呼ばれています。()にあてはまる語句を答えなさい。

解答欄

(1)	①		
	②		③
	④		⑤
	⑥		
(2)	①		②
	③		

組 番 名 前

◎ 次の資料は現在の衆議院の選挙制度を用いて、選挙シミュレーションをした結果と、その後の国会について説明したものである。次の問いに答えなさい。

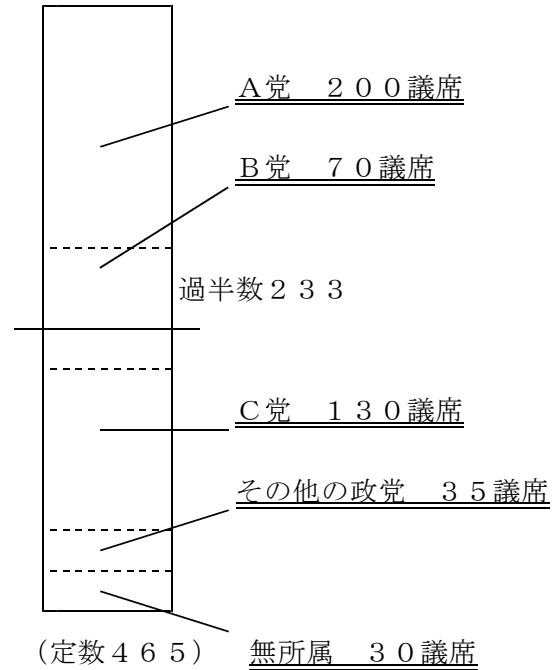
《資料①》

立候補者	Aさん	Bさん	Cさん
得票数	2000	1500	1000

《資料②》

	A党	B党	C党
得票数	12000	9000	4800
÷1	12000	9000	4800
÷2	6000	4500	2400
÷3	4000	3000	1600
(定数5)			

《資料③》



(ア) この選挙の結果を受けて、資料③のようになった国会は、A党が第一党となったが、過半数を獲得できなかったため、B党と協力することになり、A党の代表が内閣総理大臣に指名された。(イ) 二つの政党が中心となって政治を行ってきたが、(ウ) 世論の変化と政治の方法をめぐる、A党とB党が対立。C党が提出した内閣不信任案にA党以外のすべての政党が賛成したため、(エ) 内閣不信任案は可決された。

- (1) 資料①は小選挙区制の選挙結果をあらわした表です。当選者はだれか答えなさい。
- (2) 資料②は政党の名前を書いて投票し、得票率に応じて議席を配分する仕組みの投票結果を示した表です。このような選挙の方法を何というか、答えなさい。
- (3) 資料②はドント式による議席配分の計算を示しています。定数が5人だとすると、A党は何人が当選できますか。人数を答えなさい。
- (4) 国会の地位について定めた日本国憲法第41条を完成させなさい。
「国会は、国権の(①)であって、国の唯一の(②)である。」
- (5) 下線部(ア)のように、衆議院議員総選挙の後、30日以内に招集される国会を何というか、答えなさい。

(6) 下線部 (イ) について、次の問いに答えなさい。

- ① A党とB党のように、複数の政党で内閣を組織する政権を何というか、答えなさい。
- ② このとき、C党やその他の政党のように、政権に参加せず、政権を監視したり批判したりする政党を何というか、答えなさい。

(7) 下線部 (ウ) に関して、世論の形成について説明した文として正しいものを①～④から一つ選び、符号で答えなさい。

- ① 報道を規制して、政府の考えを国民に伝えていくことが大切である。
- ② 主権者である国民が、マスメディアの情報をきちんと判断することが大切である。
- ③ 民主政治を実現するためには、一部の人の意見による世論を伝えていくべきである。
- ④ 主権者である国民の意見が世論のため、マスメディアに世論を形づくる力はない。

(8) 下線部 (エ) について、次の問いに答えなさい。

- ① 内閣不信任案が可決されたとき、内閣は、どのようなことを行うことができるか、答えなさい。
- ② このように、国会の信任に基づいて内閣がつくられ、内閣が国会に対して責任を負う仕組みを何というか、答えなさい。

解答欄

(1)		(2)		(3)	
(4)	①		②	(5)	
(6)	①		②	(7)	
(8)	①				
	②				

◎ 次の資料は、ある架空の事件を題材にした裁判の様子です。次の問いに答えなさい。

オオカミは子ヤギをだまして家に入り、子ヤギを丸のみにしてしまった。そのまま寝ていたオオカミのもとに母ヤギが帰ってきて、オオカミの腹から子ヤギを無傷で助け出し、子ヤギの代わりに石を入れてしまった。目覚めたオオカミはふらふらと歩き出し、水を飲もうと井戸に寄りかかると、腹の石の重みで井戸に落ちてしまった。

《事件の内容》

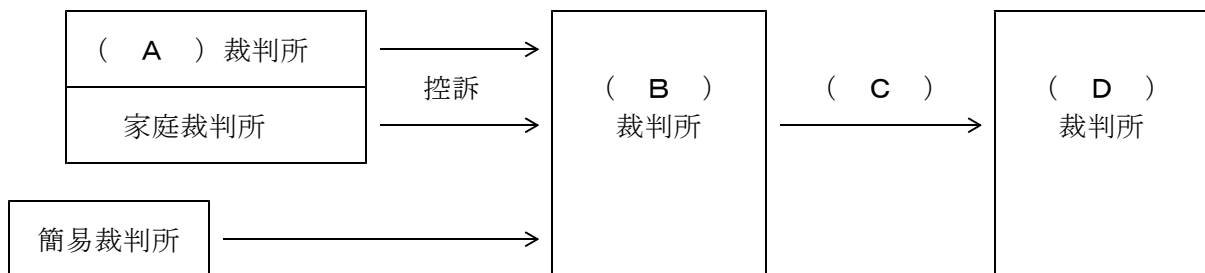
子ヤギを助け出した後に石を入れたのは、オオカミがその後に大変なことになることを予想しての行動である。石を入れなければ、オオカミは井戸に落ちることはなかった。腹に石を入れたことは罪である。

石を入れたのは、オオカミが目覚めた後、子ヤギが腹の中に入っていると勘違いさせるためであり、自分たちを守るためには必要な行動だった。しかも井戸に落ちてしまったのは事故であり、石を入れたから落ちたとは限らない。母ヤギに罪はない。

(①) の主張

(②) の主張

- (1) 罪を犯した疑いのある母ヤギを裁判所に起訴する立場にある (①) を何というか答えなさい。
- (2) 起訴された母ヤギは何と呼ばれるか答えなさい。
- (3) 公正な裁判を保証するため、母ヤギには (②) を依頼する権利があります。(②) を何というか、答えなさい。
- (4) 母ヤギはこの裁判で無罪となりました。この判決に納得のいかない (①) はさらに上級の裁判所に訴えました。裁判で上級の裁判所に訴える過程を示した図のA～Dに入る適切な語句を答えなさい。



- (5) この裁判の最中、母ヤギ・オオカミのどちらについても擁護する意見が外部から寄せられました。しかし、この裁判長はこれらの意見に惑わされず、裁判での証拠と、自らの良心と憲法・法律に従って、判決を下しました。このように裁判所はどの機関からも影響をうけないことを何というか、答えなさい。

解答欄

(1)		(2)		(3)	
(4)	A	B	C	D	
(5)					

<基本問題①>

【解答】

(1)	① 衆議院	② 参議院	(2)	二院制	(3)	イ
(4)	① ○	② ×	③ ○	④ ○	⑤ ○	⑥ ×
(5)	① ケ		② コ		③ エ	
	④ キ		⑤ ク			

【採点基準】

(1) の①と②は順不同

<基本問題②>

【解答】

(1)	① ウ			② ク				
(2)	A	立法	B	行政	C	司法	D	世論
(3)	三	権	分	立	(4)	モンテスキュー		
(5)	①	オ	②	エ	③	カ	④	イ

<基本問題③>

【解答】

(1)	①	参議院議員			都道府県知事		
	②	選挙権			③	世論	
	④	地方公共団体			⑤	地方自治	
	⑥	地方分権					
(2)	①	ア	エ	オ	②	条例	
	③	民主主義					

【採点基準】

(1) ① 順不同

④ 「地方自治体」も正答とする。

(2) ① 順不同

<応用問題①>

【解答】

(1)	Aさん	(2)	比例代表制	(3)	2人
(4)	① 最高機関	② 立法機関	(5)	特別国会	
(6)	① 連立政権	② 野党	(7)	②	
(8)	① 解散	② 議院内閣制			

【採点基準】

- (1) 「A」も正答とする。
- (5) 「特別会」も正答とする。

<応用問題②>

【解答】

(1)	検察官	(2)	被告人	(3)	弁護士
(4)	A 地方	B 高等	C 上告	D 最高	
(5)	司法権の独立				

【採点基準】

- (1) 「検事」も正答とする。

<応用問題③>

(1)	衆議院の優越
-----	--------

(2) 衆議院は参議院よりも、

議	員	数	が	多	く	,	さ	ら	に	任	期	も	短	く	15
解	散	も	あ	り	,	世	論	を	よ	り	強	く	反	映	30
さ	せ	る	こ	と	が	で	き	る	か	ら	。				45

【採点基準】

- (2) ○「任期が短い」「解散がある」「世論を反映しやすい」の3つのキーワードが含まれ、内容も正しく文字数が36文字以上の場合には配点どおりに点を与える。
- 3つのキーワードが含まれており内容も正しいが文字数が35文字～27文字程度の場合には、5割程度の点を与える。
- 文字数が27文字未満の場合には点を与えない。

<応用問題④>

【解答】

(1)

有	権	者	の	3	分	の	1	以	上	の	署	名	を	集	
め	,	選	挙	管	理	委	員	会	に	請	求	す	る	。	30
住	民	投	票	を	行	い	,	過	半	数	の	同	意	が	45
あ	れ	ば	,	解	職	さ	れ	る	。						60

【採点基準】

- (1) ○ 2つの語句を全て用いて、内容も正しく書けており、文字数が48文字以上である場合は、配点どおりの点を与える。
- 2つの語句を用いているが、文字数が47文字～36文字程度の場合は、5割程度の点を与える。
- 2つの語句のうちいずれか1つでも用いていない場合は、文字数の多少に関わらず、点を与えない。