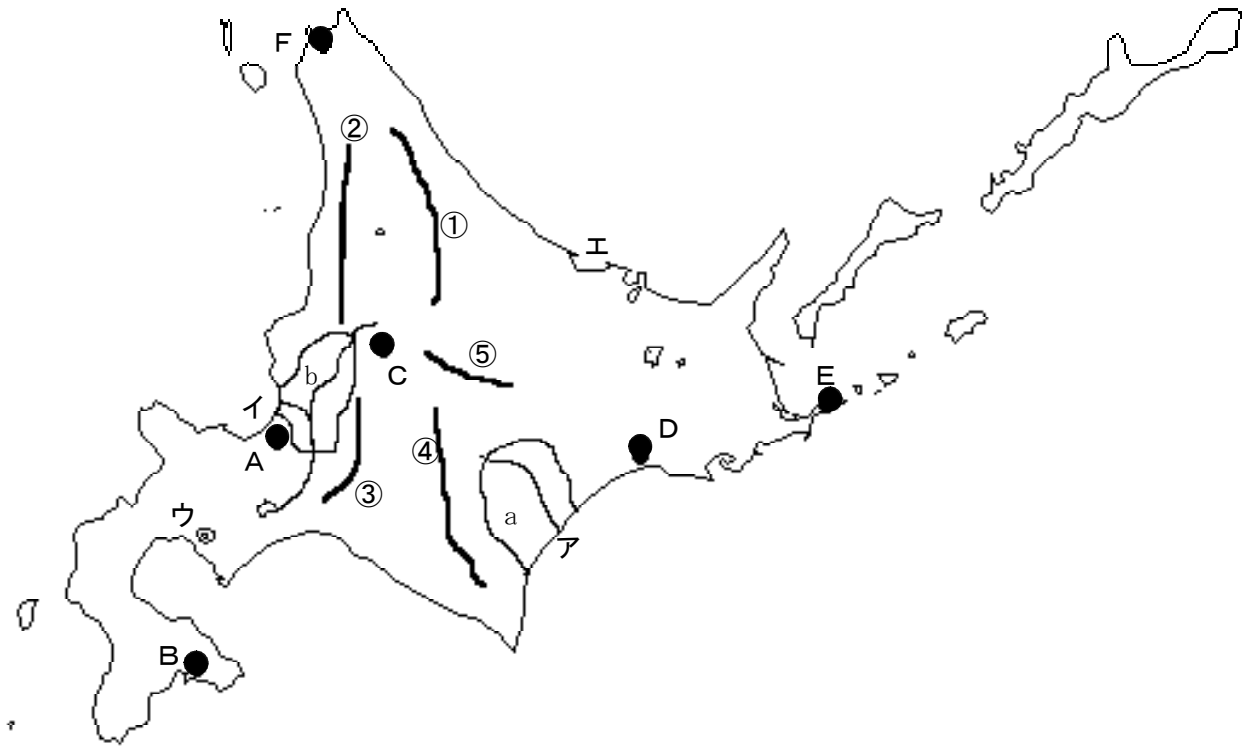


組 番 名 前

◎ 上の地図中のA～Fは都市、①～⑤は山地・山脈、ア・イは河川、ウ・エは湖、a・bは平野の名称を書きなさい。



解答欄

A (市)	B (市)	C (市)
D (市)	E (市)	F (市)

① (山地)	② (山地)	③ (山地)
④ (山地)	⑤ (山地)	

ア(川)	イ (川)	ウ (湖)	エ (湖)
-------------------	--------------------	--------------------	--------------------

a (平野)	b (平野)
---------------------	---------------------

組 番 名前

(1) 次の文の①～⑥にあてはまる適語を()に書きなさい。

地図を開くと北海道は日本の都道府県の中で、(①)がもっとも大きいことがわかりました。北海道にもともとすんでいた(②)の人たちは、明治時代になって、本州からわたって来た人々に土地をうばわれ、人口も減ってきました。さらに(③)とよばれた人々が内陸部に送り込まれ(④)がすすみました。また、炭鉱の開発もすすめられました。しかし、エネルギーが石炭から(⑤)に切り替わると炭鉱はつぎつぎに閉山となりました。

近年、日本の先住民族である(②)の人々に対する国としての取組がようやく動き出しました。「歴史の反省に立ち、先住民族と共生する社会に向けた政策づくりを」と政府の懇談会が2009年に提言したのです。それは、2007年に(⑥)が先住民族の権利宣言を採択したのを受けてのことです。日本の国会も2008年6月、「②民族を先住民族とすることを求める決議」を全会一致で採択しました。

(2) 次の①～③の問題について答えなさい。

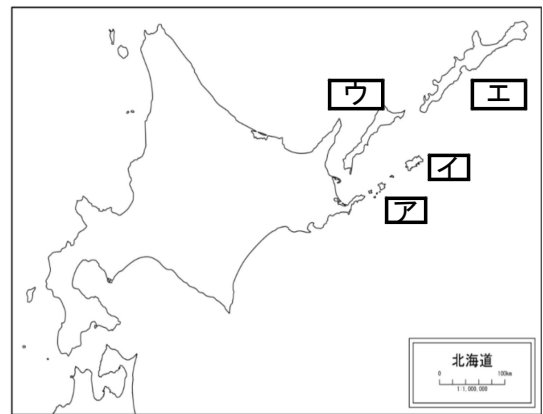
① 日本の最北端の島名を選び、解答欄に該当する記号で答えなさい。

ア 与那国島 イ 沖ノ鳥島 ウ 国後島 エ 択捉島

② 右の地図のア～エの4つの島々は、元々日本の領土ですが、太平洋戦争後、ソビエト連邦が占領し、今はソ連を引き継いだロシア連邦が占領しています。日本政府は、これらを返還するよう交渉をしています。

これらの領土をあわせて何というか、書きなさい。

③ 右の地図の(ア)～(エ)の島の名前を、下の()に書きなさい。



出典：白地図専門店HP

(3) 日本国内で世界自然遺産として登録された地域が4つあります。1993年に屋久島(鹿児島県)と、白神山地(秋田県、青森県)が最初に登録されました。また、2011年には小笠原諸島(東京都)も登録されました。では、2005年に自然遺産に登録された北海道のある地域はどこか。漢字2字で書きなさい。また、その場所を右の地図上に赤○で示しなさい。

解答欄

(1)	① () ② () ③ ()
	④ () ⑤ () ⑥ ()
(2)	① () ② ()
	③ ア () イ ()
	ウ () エ ()
(3)	()
	※右上の地図の場所に「赤○」をつける。

組 番 名 前

(1) 北海道地方の産業、文化、開発の歴史的背景、自然環境と生活について、以下の問いに答えなさい。

- A 北海道の生産量が全国1位の農産物を二つあげなさい。
 B 北海道の平野や台地と関係の深い事柄を、ア～ウの中から選び、記号を書きなさい。
 ①石狩平野 ②十勝平野 ③根釧台地

ア 畑作	イ 稲作	ウ 酪農
------	------	------

- C 次の郷土料理で北海道のものはどれか、解答欄に番号を書きなさい。
 ① のっぺ汁 ② ほうとう ③ ちゃんちゃん焼き ④ あんこうなべ

(2) 北海道について、次の文の①～⑤にあてはまる適語を書きなさい。

日本には現在、47都道府県がありますが「県」は、中国の古代律令制の地域区分からきたものです。では、北海道だけなぜ「道(どう)」なのでしょう。北海道は、江戸時代は(①)地と呼ばれていました。

(②)時代になってから開拓がはじまりました。当時は「東海道」や「山陽道」など奈良時代からの地域区分にならない、「(③)にある地方」とつけた名前が今でも使われています。

北海道開拓の中心となった(④)市は、計画的につくられた都市で、格子状の町並みが広がっています。北海道庁のほか、国の出先機関が数多くおかれしました。現在、北海道の人口の(⑤)割以上にあたる約195万人(2015年現在)が、札幌市に集中しています。

(3) アイヌの文化について次の問題に答えなさい。

次のアイヌ語が由来となったとされる地名を書きなさい。

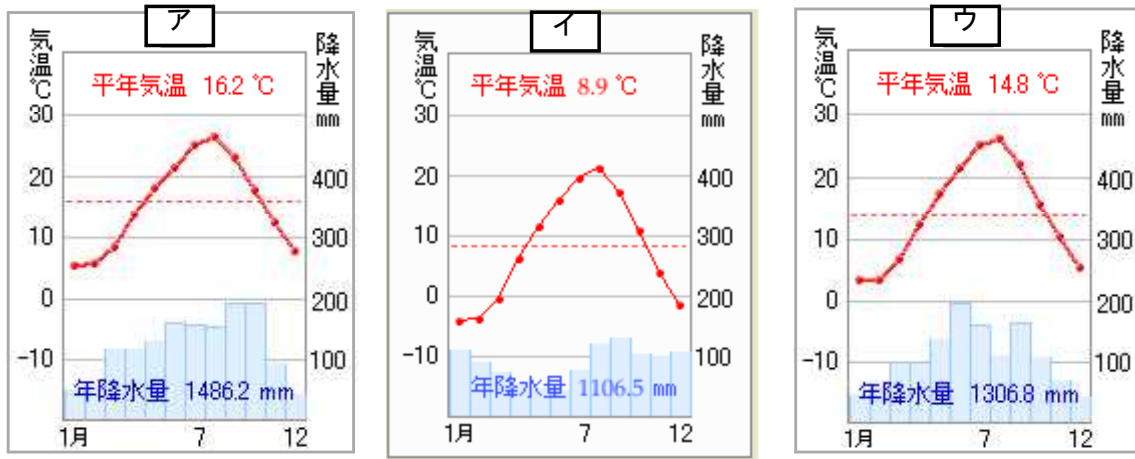
- ①サリポロペツ …湿地を流れる大事な川
 ②トマクオマナイ…沼の奥にある川
 ③ニムオロ …樹木がしげるところ

解答欄

(1)	A () ()	B ①() ②() ③()	C ()
(2)	①() ②() ③()	④() ⑤()	
(3)	①() ②() ③()		

◎ 北海道地方の地形や気候について、以下の問いに答えなさい。

(1) 北海道の気温と降水量を表しているグラフを、ア～ウの中から選び、符号を書きなさい。



(2) 北海道の気候帯は、何と呼ばれているか、書きなさい。

(3) 北海道では、気候や広大な土地を生かし、どんな農業をしているか二つ書きなさい。

(4) ①北海道で最も多く水揚げされる貝類は何か、答えなさい。

②北海道の漁業に関して、豊かな恵みをもたらす海流名を二つ答えなさい。

(5) 都道府県境をすべて水に囲まれた都道府県は、北海道、沖縄県と何県ですか。県名を書きなさい。

解答欄

(1)				
(2)				
(3)				
(4)	①		②	
			海流	海流
(5)				

組 番 名前

◎ 北海道地方の人々の自然に合わせた工夫を「生活面」と「産業面」に分けるとともに、次の語句をすべて使って、210字以内で書きなさい。

豊かな自然 寒さ対策 観光産業 広大な土地

解答欄

	30
	60
	90
	120
	150
	180
	210

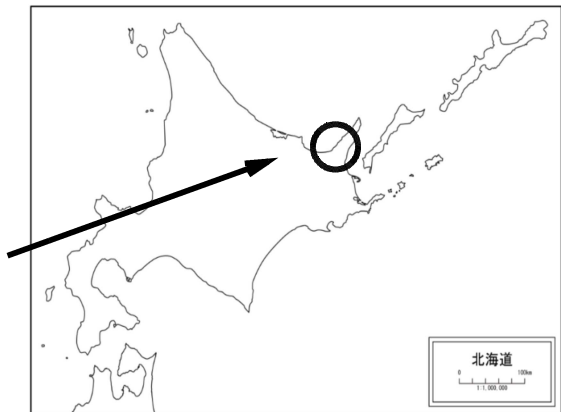
<基本問題①>

- 【解答】 A (札幌市) B (函館市) C (旭川市)
 D (釧路市) E (根室市) F (稚内市)
 ① (北見山地) ② (天塩山地) ③ (夕張山地)
 ④ (日高山脈) ⑤ (石狩山地)
 ア (十勝川) イ (石狩川) ウ (洞爺湖) エ (サロマ湖)
 a (十勝平野) b (石狩平野)

【解説】 ○ 基本的な名称です。名前と位置関係を確実に押さえましょう。「頭文字で覚える」など自分なりに工夫するといいいでしょう。山地山脈の例…北天夕日石(ほくてんゆうひのいし)

<基本問題②>

- 【解答】 (1) ① (面積) ② (アイヌ) ③ (屯田兵)
 ④ (開拓) ⑤ (石油) ⑥ (国際連合 または 国連)
 (2) ① (④)
 ② (北方領土)
 ③ ア…(歯舞群島)
 イ…(色丹島)
 ウ…(国後島)
 エ…(択捉島)
 (3) 知床 右地図への記入
 国後島の北西「知床半島」



【解説】 ○ 国土地理院は、2008年3月、根室市からの地名変更の要望を受け、「歯舞群島」へ名称を変更しました。これからこの名称を使ってください。

<応用問題①>

【解答】(1) A てんさい, あずき, じゃがいも, 小麦, たまねぎ, スイートコーン, 生乳などから2つ

B ① (イ) ② (ア) ③ (ウ)

C (③)

(2) ① (蝦夷) ② (明治) ③ (北海) ④ (札幌) ⑤ (4)

(3) ① (札幌…さっぽろ) ② (苫小牧…とまこまい) ③ (根室…ねむろ)

<応用問題②>

【解答】(1) イ (2) 冷帯 (亜寒帯) (3) 稲作 牧畜 畑作のうち2つ

(4) ① ほたて ② 千島海流 リマン海流 (5) 千葉県

【解説】○ 北海道は, 牧草地や耕作地が壮大に広がっています。

○ ちゃんちゃん焼きは, 鮭などの魚と野菜を鉄板で焼いた北海道の漁師町の名物料理。鮭を使った北海道の郷土料理には他にも石狩なべなどがある。

○ 北海道開拓の歴史は, 「北の千年」など映画化されています。また, 先住民族の「アイヌ」の文化を知ることも大切です。

<応用問題③>

【解答】 北海道地方は, **冷帯 (亜寒帯) 気候**で, 寒冷な気候と**広大な土地**を利用した大規模な牧畜や稲作, 畑作がさかんである。また, 周囲を海洋で囲まれた, 自然の特色を生かした**水産業**もさかんである。観光資源も豊富で中でも知床は, **世界自然遺産**に指定され, 観光客も多く訪れている。(128字)

【解説】○ 熱帯, 乾燥帯, 温帯, 冷帯(亜寒帯), 寒帯の「気候区分」は覚えましょう。

○ 雨温図は, データを読み取り, 自分でグラフが書けるようにしましょう。

○ 北海道は, 壮大な自然が大きな観光資源です。

【採点基準】

採 点 の 基 準
(文字数) ・ 105字以上で, 配点通りに与える。 ・ 80字~104字で, 配点の8割程度与える。 ・ 79字未満は, 配点の5割程度与える。 (内容) ・ すべてのキーワードが使われていないものは, 不正解とする。

<応用問題④>

【解答】 北海道にもともと住んでいた**アイヌの人々**は、明治になって本州から開拓のために送り込まれた**屯田兵**と呼ばれた人々に土地を奪われた。**炭鉱**の開発も進められたが、エネルギーが石油に代わり、炭鉱は閉山していき、**第一次産業**、**第三次産業**がふえてきている。(120字)

【解説】 ○ キーワードがたくさんあるのでそれらを関連付けて、簡潔に書くようにしましょう。

【採点基準】

採 点 の 基 準
(文字数) ・ 95字以上で、配点通りに与える。 ・ 70字～94字で、配点の8割程度与える。 ・ 69字未満は、配点の5割程度与える。 (内容) ・ すべてのキーワードが使われていないものは、不正解とする。

<応用問題⑤>

【解答】 生活面では、多雪対策としては道路にロードヒーティングが整備されている。また雪が落ちやすいように信号機も縦型になっている。**寒さ対策**としては家の窓を二重にしたり、厚い断熱材を壁に利用したりする工夫がされている。産業面では、雪を利用した札幌雪まつりや世界遺産に登録された知床など**豊かな自然**や温泉、流水等を活用した**観光産業**に力を入れている。またスキー客を海外からも誘致している。農業では**広大な土地**を生かした大規模経営が多い。(208字)

【解説】 解答ではふれていないが、産業面の農業では稲作でも工夫がみられる。もともと亜熱帯原産の米を品種改良により北海道で作れるようにして、現在は日本有数の米の生産地になった。

【採点基準】

採 点 基 準
(文字数) ・ 170字以上で、配点通りに与える。 ・ 110字～169字で、配点の8割程度与える。 ・ 110字未満は、配点の5割程度与える。 (内容) ・ 自然に合わせた工夫が、「生活面」と「産業面」の両面から書かれていれば正解とする。 ・ 4つの語句を全て使っていない場合は不正解とする。