

地理1 第1章 世界と日本の地域構成 <基本問題①>

組 番 名前

(1) 次の文の空欄にあてはまる言葉を入れなさい。

地球上の各地点は(①)と経度を使って示すことができる。
 (①)は赤道を0度として表す。経度は、イギリスの(②)を通る子午線を0度として表す。

(2) 130,000,000人と同じ人数を次のア～オからすべて選びなさい。

- ア 1.3億人 イ 13千万人 ウ 13億人 エ 1.3千万人
 オ 13百万人

(3) 右の資料を見て、世界の人口の何%が中国人といえるか、小数点以下を四捨五入して整数で答えなさい。

【資料】

	人 口
中 国	143565万 人
全 世 界	779500万 人

世界人口年鑑2020版

解答欄

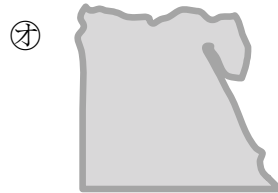
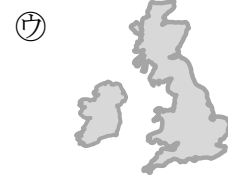
(1)	①	②
(2)		(3)

地理1 第1章 世界と日本の地域構成 <基本問題②>

組 番 名前

◎ 次の①～⑫の語句を、解答欄の語句を手がかりに州名と国名と首都名と国の形に分類、整理し、その番号を解答欄に書きなさい。

- ①オセアニア ②イギリス ③ワシントンD.C ④ブラジリア
 ⑤デリー ⑥オーストラリア ⑦アメリカ合衆国 ⑧アジア ⑨ブラジル
 ⑩カイロ ⑪アフリカ ⑫ロンドン



解答欄

【州名】

【国名】

【首都名】

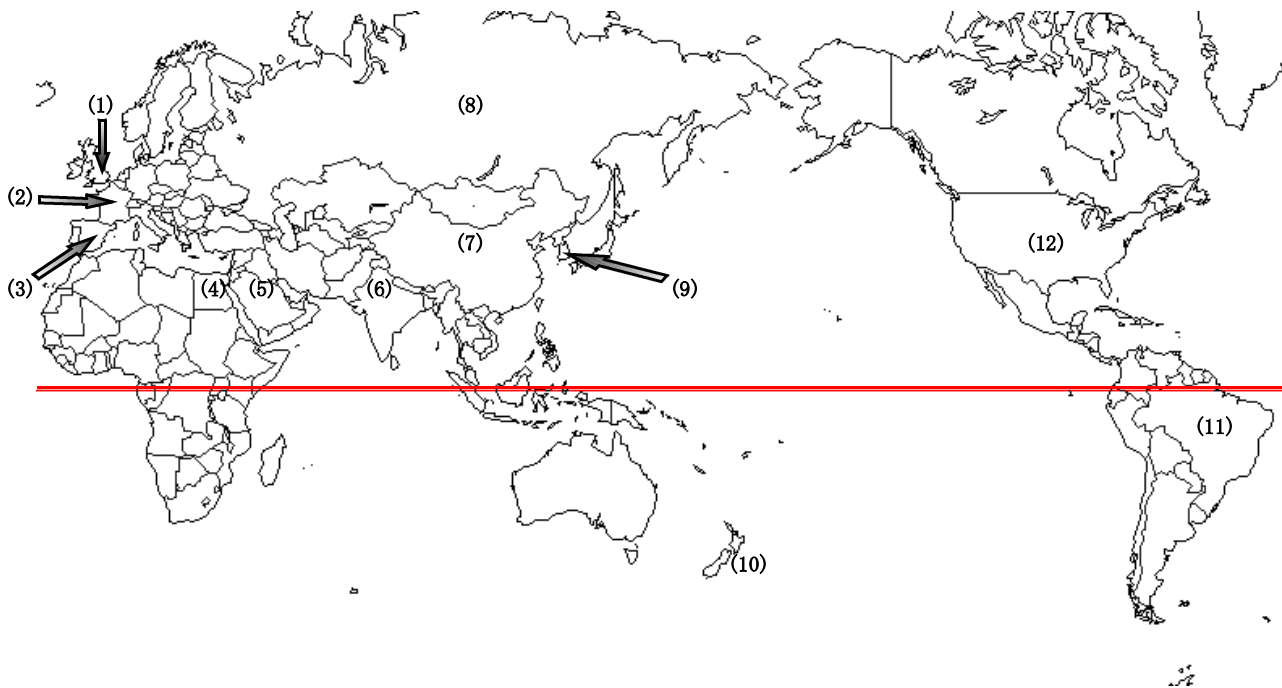
【国の形】

ヨーロッパ			
	インド		
	エジプト		
		キャンベラ	
北アメリカ			
南アメリカ			

地理1 第1章 世界と日本の地域構成 <基本問題③>

組 番 名前

◎ 下の地図にある，(1)～(12)の国名を答えなさい。



「Craft Map 日本・世界の白地図」

解答欄

(1)		(2)		(3)	
(4)		(5)		(6)	
(7)		(8)		(9)	
(10)		(11)		(12)	

地理1 第1章 世界と日本の地域構成 <基本問題④>

組 番 名前

◎ 下の世界地図で①～④の大陸名と⑤～⑥の大洋名を答えなさい。そして、ア～オの州の名前を書きなさい。

また、地球上の地点はどこでも、例えば「北緯30度、東経100度」のように、「東」「西」「南」「北」を使って「緯度・経度」で表せます。A～Dの地点について、「()緯〇〇度、()経〇〇度」の表し方をしたとき、それぞれ()には「東」「西」「南」「北」のどの文字があてはまるか、書きなさい。



「Craft Map 日本・世界の白地図」

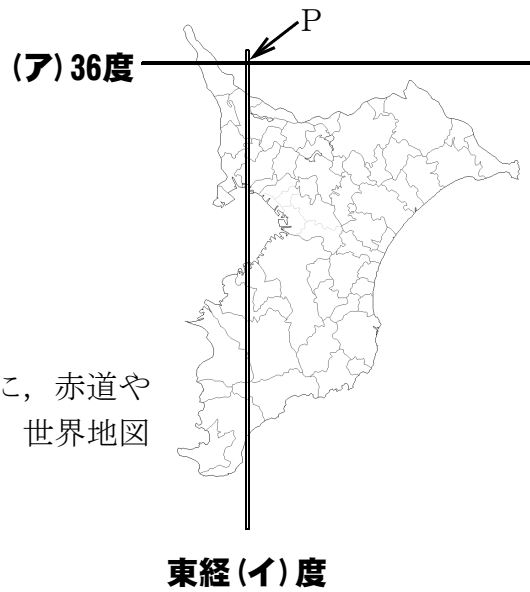
解答欄

大陸名①	②	③	④
大洋名⑤		⑥	
州名ア	イ	ウ	
エ	オ		
地点の位置	A ()緯・()経	B ()緯・()経	
	C ()緯・()経	D ()緯・()経	

地理1 第1章 世界と日本の地域構成 <基本問題⑤>

組 番 名前

(1) 右の地図の中を通過している緯線と経線が交差する点Pの位置を(ア)に適語を入れて示しなさい。



(2) イに当てはまる数字を選びなさい。

ア 135 イ 140 ウ 150

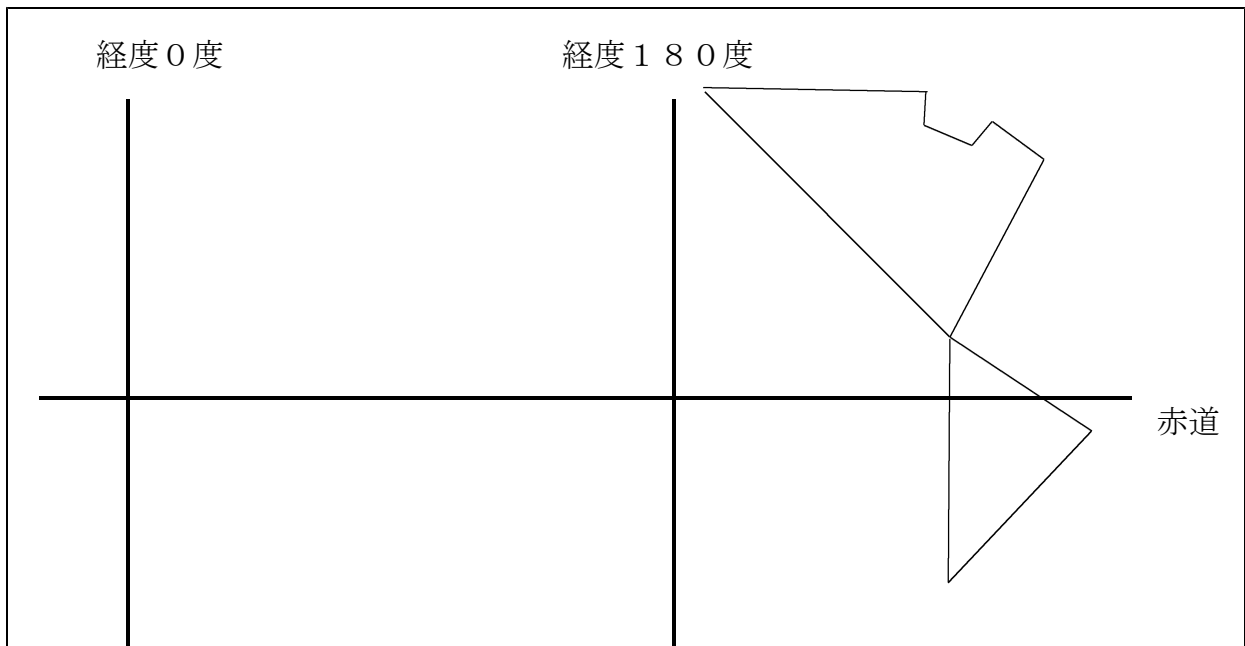
(3) 南・北アメリカ大陸の位置と形をもとに、赤道や経度0度、経度180度の線を意識して、世界地図の略地図を書きなさい。

解答欄

(1)

(2)

(3)



◎ 地図Aをもとに，次の問いに答えなさい。

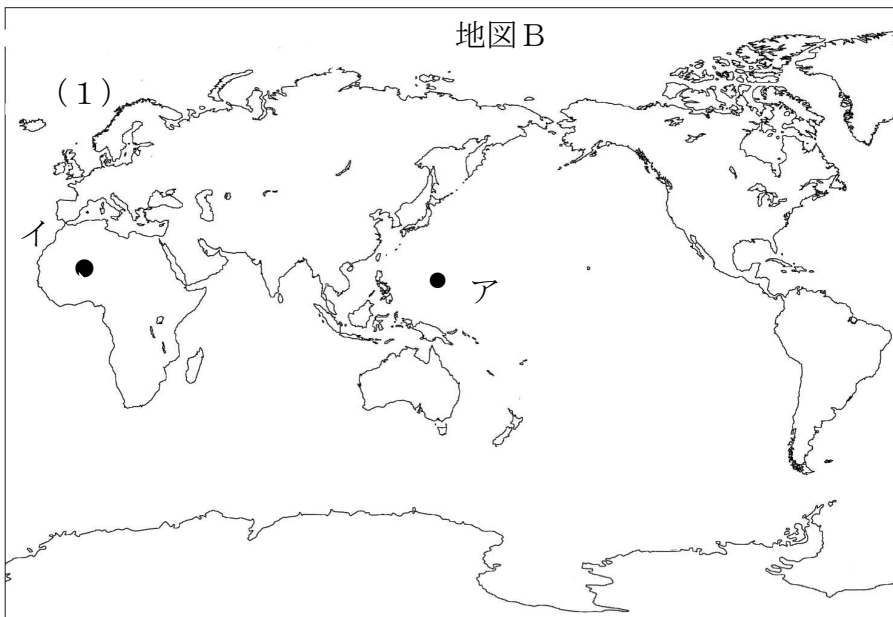
【地図A】

(1) 右の地図Aは正距方位図法です。
アからイまでの最短距離の道筋を，
解答欄の地図Bに書きこみなさい。

(2) 地図中のアからみたウのおよそ
の方位を，八方位で答えなさい。



解答欄



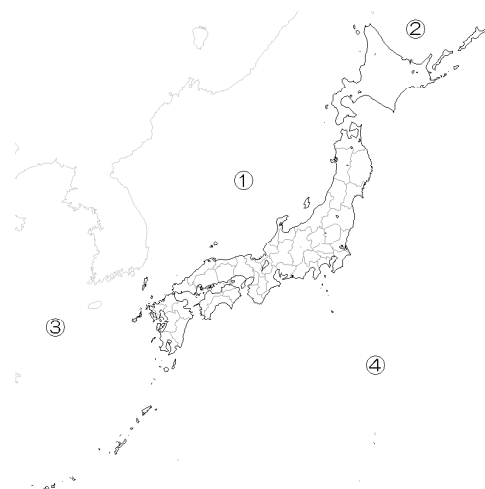
(2)

「Craft Map 日本・世界の白地図」

組 番 名前

◎ 右の地図をもとに，問いに答えなさい。

(1) 地図中の①～④の海の名称を答えなさい。



「Craft Map 日本・世界の白地図」

(2) 日本の北端，南端，東端，西端の島の名称を答えなさい。また，その島はどの都道府県に属しているか，答えなさい。

解答欄

(1)	①		②		③		④	
(2)	島の名称				都道府県名			
	北端							
	南端							
	東端							
	西端							

地理1 第1章 世界と日本の地域構成 <基本問題⑧>

組 番 名前

◎ 次の問いに答えなさい

(1) 日本の国土について、次の文の()の①～③にあてはまる数字や言葉を答えなさい。

日本は、北海道と(①), 四国, 九州の4つの大きな島と周りの小さな島々からなり、国土面積は約(②) k m², 北海道から沖縄までおよそ(③) km, 南北に細長くのびている。

(2) 次の文の()の①～③にあてはまる数字や言葉を答えなさい。

森田くんは、アーノルドくんに会うため、1月1日午後2時発の飛行機で、成田からロサンゼルスに向かった。森田くんがロサンゼルスに到着したのは、(①)月(②)日(③)時である。ただし、アメリカは冬時間、飛行時間は10時間、ロサンゼルス標準時子午線は西経120°とする。

(3) 下の地図は、日本を8地方に区分したものである。①～⑧の地方名を答えなさい。



「Craft Map 日本・世界の白地図」

答欄

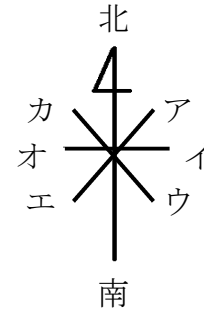
(1)	①		②		③	
(2)	①		②		③	
(3)	①	地方	②	地方	③	地方
	⑤	地方	⑥	地方	⑦	地方

地理1 第1章 世界と日本の地域構成 <基本問題⑨>

組 番 名前

(1) 地図は、上を北にして描かれています。ア～カの方位を書きなさい。

ア () イ ()
 ウ () エ ()
 オ () カ ()



(2) 日本の国土について () に合う言葉を書きなさい。

- ① 日本の北端は、() 45度33分にある択捉島である。
- ② 日本の西端は、() 122度56分にある与那国島である。
- ③ 日本の南端は、() 20度25分にある沖ノ鳥島である。
- ④ 日本の東端は、() 153度59分にある南鳥島である。

(3) 次の(ア)～(カ)の地図記号を書きなさい。

ア 小中学校	イ 警察署	ウ 田	エ 果樹園	オ 工場	カ 寺院

(4) 地図帳のさくいんで“〇〇市”を調べました。

【36ページ】

36カ6と書いてありました。

〇〇市があるマスに〇を書きなさい。

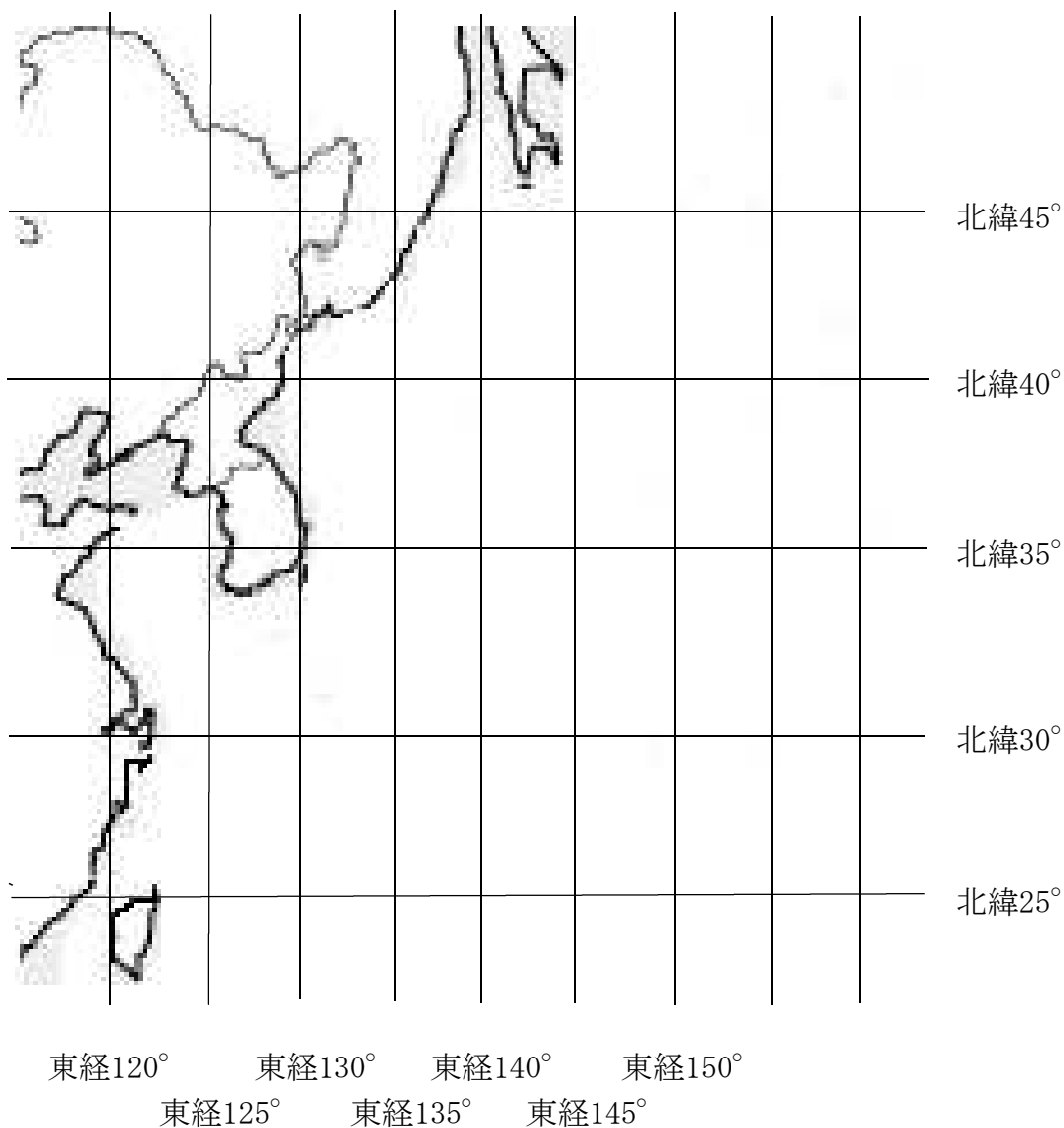
1	ア	イ	ウ	エ	オ	カ
2						
3						
4						
5						
6						

地理1 第1章 世界と日本の地域構成 <基本問題⑩>

組 番 名前

◎ 東経120°～150°，北緯30°～45°を意識して，下の地図に日本（北海道・本州・四国・九州）を描き入れなさい。

解答欄



「Craft Map 日本・世界の白地図」

地理1 第1章 世界と日本の地域構成 <基本問題①・解答>

【解答】

- (1) ① 緯度
- ② ロンドン
- (2) あ い
- (3) 18%

【解説】(1) ①②地図上で確認する時の基本になります。

(3) 5人に1人の割合は、20%になります。

地理1 第1章 世界と日本の地域構成 <基本問題②・解答>

【解答】

【州名】	【国名】	【首都名】	【国の形】
ヨーロッパ	②	⑫	㉞
⑧	インド	⑤	㉠
⑪	エジプト	⑩	㉡
①	⑥	キャンベラ	㉣
北アメリカ	⑦	③	㉢
南アメリカ	⑨	④	㉣

【解説】 ○ 州名と国名，首都名を混同していないかどうかを確かめる問題です。
「アメリカ」は，通常は「アメリカ合衆国」の通称として使用します。大陸や州を指す場合は「北アメリカ」「南アメリカ」という使い方をします。

地理1 第1章 世界と日本の地域構成 <基本問題③・解答>

第1章 世界の様々な地域 (1) 世界の地域構成 目標③ 2003

【解答】

(1)	イギリス	(2)	フランス	(3)	スペイン
(4)	エジプト	(5)	サウジアラビア	(6)	インド
(7)	中華人民共和国 (中国)	(8)	ロシア	(9)	大韓民国 (韓国)
(10)	ニュージーランド	(11)	ブラジル	(12)	アメリカ

【解説】 主な国名とその位置は、地図帳や白地図を活用して確実に覚えましょう。

地理1 第1章 世界と日本の地域構成 <基本問題④・解答>

【解答】

大陸名① ユーラシア大陸	②オーストラリア大陸	③南アメリカ大陸	④南極大陸
大洋名⑤ 大西洋		⑥ インド洋	
州名あ アジア州	い ヨーロッパ州	う アフリカ州	
え 北アメリカ州	お オセアニア州		
地点の位置	A (北)緯・(東)経	B (南)緯・(東)経	
	C (北)緯・(西)経	D (南)緯・(西)経	

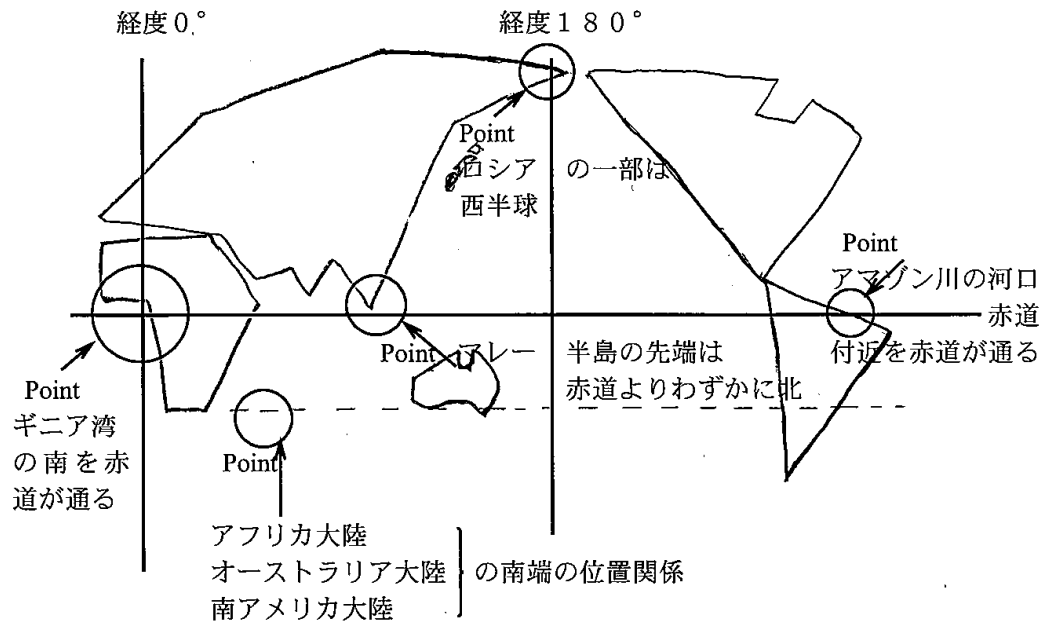
【解説】大陸名と海洋名，州名は，地図帳や白地図を活用して確実に覚えましょう。また，地図や地球儀には緯度と経度が示されています。場所を緯度と経度を使って表すこともできるようにしておくことが大切です。

【採点基準】

番号	採点の基準
①～④	「大陸」はなくても可
あ～お	「州」はなくても可
A～D	・各完答（緯度，経度両方できて）

【解答】

- (1) ア 北緯 イ 140
 (2)



- 【解説】 (1) 地理上の位置を答える問題です。日本の子午線，千葉県を通る緯線，経線は覚えておきましょう。北緯35度は館山付近を通過しています。
 (2) 略世界地図を描く問題です。

経度0度は本初子午線のことで、イギリスの旧グリニッジ天文台を通る経線を基準にして定められています。経度180度は日付変更線と重なっている部分が多くありますが、この経線付近にある国々の国土との関係で、日付変更線は折れ曲がっています。

【採点基準】

番号	採点の基準
(1)	・ 完答
(2)	(解答に示された Point を基準) ・ ロシアの一部が西半球 ・ ギニア湾の南に赤道 ・ マレー半島の先端が赤道の少し北 ・ アフリカ，オーストラリアの南端が揃って南中緯度

【解答】

(1)



(2) 北東

【解説】(1) 正距方位図法は、距離と方位が正確に表されています。ここでは、正距方位図でア・イ間の最短距離（直線）がどこを通過しているかを確認しましょう。

(2) 正距方位図法における方位は、ある地点から見て正確に北が上、南が下、右が東、左が西を表しています。是非、地球儀で調べてみましょう。

【採点基準】

番号	採点の基準
(1)	<ul style="list-style-type: none">・シベリアを通過している・北極海沿岸を通過している・北に緩やかな曲線（山型）で描かれている

地理1 第1章 世界と日本の地域構成 <基本問題⑦・解答>

【解答】

- (1) ① 日本海 ② オホーツク海 ③ 東シナ海 ④ 太平洋
(2)

	島の名称	都道府県名
北端	択捉島	北海道
南端	沖ノ鳥島	東京都
東端	南鳥島	東京都
西端	与那国島	沖縄県

【解説】

- 小学校の復習です。周りの海や主な島をもう一度、地図帳や地球儀を用いて確認しておくといでしょう。

地理1 第1章 世界と日本の地域構成 <基本問題⑧・解答>

【解答】(1) ① 本州 ② 38万 ③ 3000

(2) ① 1 ② 1 ③ 午前7時

(3) ① 北海道(地方) ② 東北(地方) ③ 関東(地方)
④ 中部(地方) ⑤ 近畿(地方) ⑥ 四国(地方)
⑦ 中国(地方) ⑧ 九州(沖縄)(地方)

【解説】

- (2)の問題で、日本とロサンゼルスの時差は、日本が東経、ロサンゼルスが西経のため、 $135+120=255$ $255\div 15=17$ 17時間の時差がある。飛行時間が10時間ということは、日本時間では午後2時に10時間たすと1月2日0時になる。そこからロサンゼルスとの時差分を引く(時計を逆回しにする)と1月1日の午前7時となる。
- 一般によく使われる8地方区分です。天気予報では、関東甲信越地方として、関東7県に山梨県、長野県、新潟県を一緒に表示しています。他に東日本と西日本という2区分や東日本、中日本、西日本という3区分もあります。

地理 1 第 1 章 世界と日本の地域構成 <基本問題⑨・解答>

【解 答】(1) ア 北東 イ 東
 ウ 南東 エ 南西
 オ 西 カ 北西

(2) ① 北緯 ② 東経 ③ 北緯 ④ 東経

(4)

ア 学校	イ 警察署	ウ 田	エ 果樹園	オ 工場	カ 寺院
✖	⊗	田	🌳	⚙	☪

(5)

1	ア	イ	ウ	エ	オ	カ
2						
3						
4						
5						
6						○

【解 説】○ 方位や地図記号，緯度・経度，地図の索引の使い方などを問題にしています。基本的な事項です。

地理1 第1章 世界と日本の地域構成 <基本問題⑩・解答>

【解答】



【解説】

- ア 北海道の北端（宗谷岬）は樺太のすぐ南からかき始めます。
- イ 北緯 35° 東経 140° が交差した所が千葉県南房総市千倉付近になります。
- ウ 東経 135° の経線が兵庫県明石を通ります。
- エ 九州と朝鮮半島の位置関係に気をつけましょう。
- オ ①～④の位置に日本の領土の端があります。

【採点基準】

採 点 の 基 準

解説に示されたア～エを基準として、配点の目安とする。

ア 北海道の北端（宗谷岬）は樺太のすぐ南からかき始める。

イ 北緯 35° 東経 140° が交差した所が千葉県南房総市千倉付近になる。

ウ 東経 135° の経線が兵庫県明石付近を通る。

エ 九州と朝鮮半島の位置関係に気をつける。

地理1 第1章 世界と日本の地域構成 <応用問題①・解答>

【解答】

日本は、江戸幕府とロシア帝国が1855年に結んだ日露和親条約を根拠に択捉島以南を日本領と主張している。一方、ロシアは1945年のソ連侵攻の正当性を主張し、現在、北方領土を領有している。(92字)

【解説】

- 第二次世界大戦が終了した1945年、当時のソ連は、8月から9月にかけて四島を占領しました。当時、北方領土には約2万人の日本人が暮らしていましたが、多くの島民はそのまま抑留され、樺太などで非常に苦しい生活を送った後、昭和22年から24年にかけて引き揚げさせられました。現在、日本人は1人も住んでいませんが、ロシア人が歯舞群島を除く3島に合わせて約1万7千人近く住んでいます。

【採点基準】

採点の基準
(文字数) <ul style="list-style-type: none">・ 80字以上で、配点通りに与える。・ 60字～79字で、配点の8割程度与える。・ 60字未満は、配点の5割程度与える。 (内容) <ul style="list-style-type: none">・ キーワードがすべて使われていないものは、不正解とする。