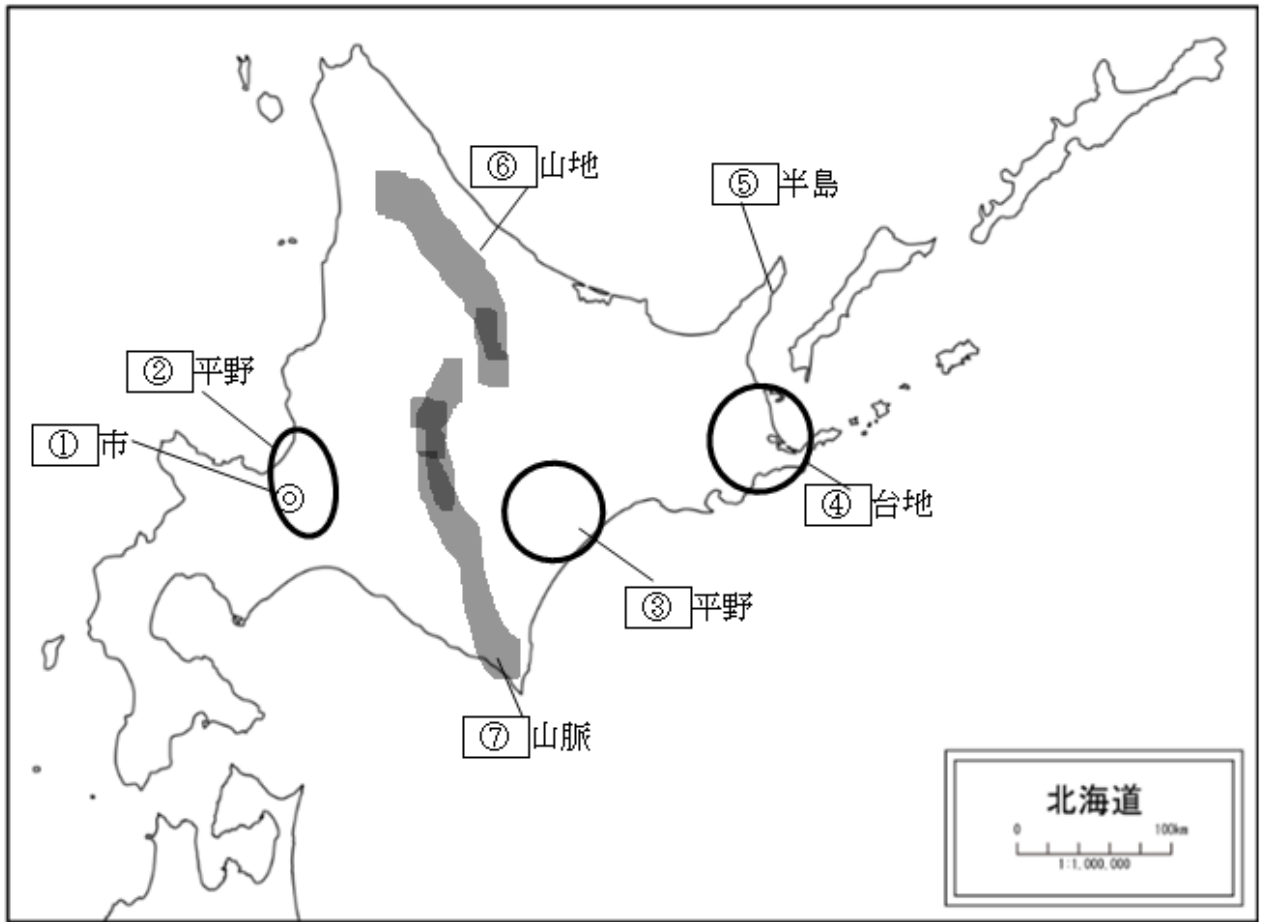


地理2 第1章 日本の様々な地域 (8) 日本の諸地域(北海道地方) ①

組 番 名 前 _____

◎ 地図中の①は都市，②～④は平野・台地，⑤は半島，⑥⑦は山地・山脈の名称を書きましょう。



出典：白地図専門店HP

①	市
②	平野
③	平野
④	台地
⑤	半島
⑥	山地
⑦	山脈

組 番 名前

(1) 次の文の①～⑥にあてはまる適語を()に書きましょう。

地図を開くと北海道は日本の都道府県の中で、(①)がもっとも大きいことがわかりました。北海道にもともとすんでいた(②)の人たちは、明治時代になって、本州からわたって来た人々に土地をうばわれ、人口も減ってきました。さらに(③)とよばれた人々が内陸部に送り込まれ(④)がすすみました。また、炭鉱の開発もすすめられました。しかし、エネルギーが石炭から(⑤)に切り替わると炭鉱はつぎつぎに閉山となりました。

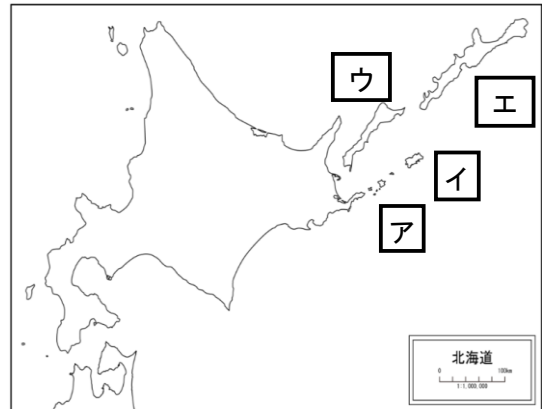
近年、日本の先住民族である(②)の人々に対する国としての取組がようやく動き出しました。「歴史の反省に立ち、先住民族と共生する社会に向けた政策づくりを」と政府の懇談会が2009年に提言したのです。それは、2007年に国際連合が先住民族の権利宣言を採択したのを受けてのことです。日本の国会も2008年6月、「(②)民族を先住民族とすることを求める決議」を全会一致で採択しました。

(2) 次の設問について答えましょう。

① 右の地図のア～エの4つの島々は、元々日本の領土ですが、太平洋戦争後、ソビエト連邦が占領し、今はソ連を引き継いだロシア連邦が占領しています。日本政府は、これらを返還するよう交渉をしています。

これらの領土をあわせて何といいますか。

② 右の地図の(ア)～(エ)の島の名前を書きましょう。



出典：白地図専門店HP

(3) 日本国内で世界自然遺産として登録された地域が4つあります。1993年に屋久島(鹿児島県)と、白神山地(秋田県、青森県)が最初に登録されました。また、2011年には小笠原諸島(東京都)も登録されました。では、2005年に自然遺産に登録された北海道のある地域はどこか漢字2字で書きなさい。また、その場所を右上の地図上に○で書きましょう。

(1)	①	②	③
	④	⑤	
(2)	①		
	②ア	イ	ウ エ
(3)	※右上の地図の場所に「○(マル)」をつける。		

◎ 北海道地方の産業、文化、開発の歴史的背景、生活について以下の設問に答えましょう。

(1) A 北海道の生産量が全国1位でない農産物を以下の選択肢から2つ選びましょう。

ア さとうきび イ じゃがいも ウ てんさい エ 小麦 オ 落花生

B 北海道の平野や台地と関係の深い事柄を、□から選び記号を書きましょう。

①石狩平野 ②十勝平野 ③根釧台地

ア 畑作	イ 稲作	ウ 酪農
------	------	------

(2) 北海道について、次の文の①～④にあてはまる適語を書きましょう。

日本には現在、47都道府県がありますが「県」は、中国の古代律令制の地域区分からきたものです。では、北海道だけなぜ「道(どう)」なのでしょう。北海道は、江戸時代は(①)地と呼ばれていました。(②)時代になってから開拓がはじまりました。当時は「東海道」や「山陽道」など奈良時代からの地域区分にならない、「(③)にある地方」とつけた名前が今でも使われています。北海道開拓の中心となった(④)市は、計画的につくられた都市で、格子状の町並みが広がっています。北海道庁のほか、国の出先機関が数多くおかれしました。

(3) アイヌの文化について次の問題に答えましょう。

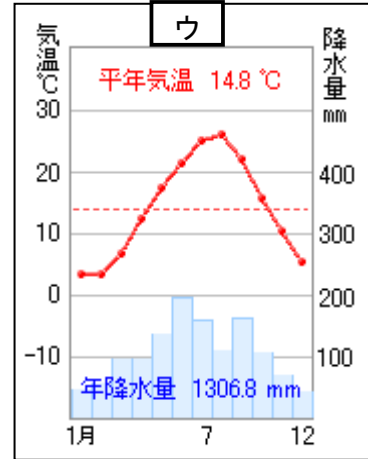
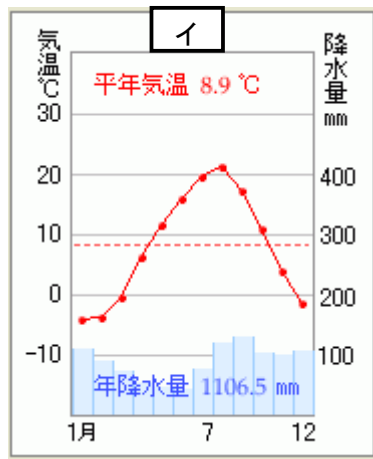
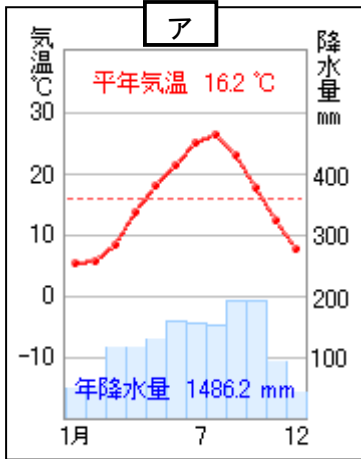
次のアイヌ語が由来となったとされる地名を書きましょう。

- ①サリポロペツ …湿地を流れる大事な川
- ②トマクオマナイ…沼の奥にある川
- ③ニムオロ …樹木がしげるところ

(1)	A	.				
	B	①	②	③		
(2)	①		②		③	
	④					
(3)	①		②		③	

◎ 北海道地方の地形や気候について、以下の設問に答えましょう。

(1) 北海道の気温と降水量を表しているグラフは、ア～ウのどれですか。



(2) 北海道の気候帯は、何と呼ばれていますか。

(3) 北海道では、気候や広大な土地を生かし、どのような農業をしているかまとめてみましょう。

(4) ①北海道で最も多く水揚げされる貝類は何でしょうか。

②北海道の漁業に関して、豊かな恵みをもたらす海流名を2つ答えましょう。

(1)				
(2)				
(3)				
(4)	①		②	

組 番 名前

◎ 北海道地方の人々の自然に合わせた工夫を「生活面」と「産業面」に分けるとともに、次の語句を全て使って、210字以内で書きましょう。

【思・判・表】

豊かな自然 寒さ対策 観光産業 広大な土地

解答欄

	30
	60
	90
	120
	150
	180
	210

地理2 第1章 日本の様々な地域 (8) 日本の諸地域(北海道地方)

- <①> ① 札幌市 ② 石狩平野 ③ 十勝平野 ④ 根釧台地
⑤ 知床半島 ⑥ 北見山地 ⑦ 日高山脈

- <②> (1) ① 面積 ② アイヌ ③ 屯田兵 ④ 開拓 ⑤ 石油

- (2) ① 北方領土

- ② ア… 歯舞群島 イ… 色丹島
ウ… 国後島 エ… 択捉島

- (3) 知床 右地図への記入

国後島の北西「知床半島」



出典：白地図専門店HP

- <③> (1) A ア・オ B ① イ ② ア ③ウ

- (2) ①蝦夷 ②明治 ③北海 ④札幌

- (3) ①札幌…さっぽろ ②苫小牧…とまこまい ③根室…ねむろ

- <④> (1) イ (2) 冷帯(亜寒帯)

(3) 北海道地方は、寒冷的な気候と**広大な土地**を利用した大規模な牧畜や稲作、畑作がさかんである。

- (4) ① ほたて ② 千島海流・リマン海流

- <⑤>

【解答】 生活面では、多雪対策としては道路にロードヒーティングが整備されている。また雪が落ちやすいように信号機も縦型になっている。**寒さ対策**としては家の窓を二重にしたり、厚い断熱材を壁に利用したりする工夫がされている。産業面では、雪を利用した札幌雪まつりや世界遺産に登録された知床など**豊かな自然**や温泉、流氷等を活用した**観光産業**に力を入れている。またスキー客を海外からも誘致している。農業では**広大な土地**を生かした大規模経営が多い。(208字)