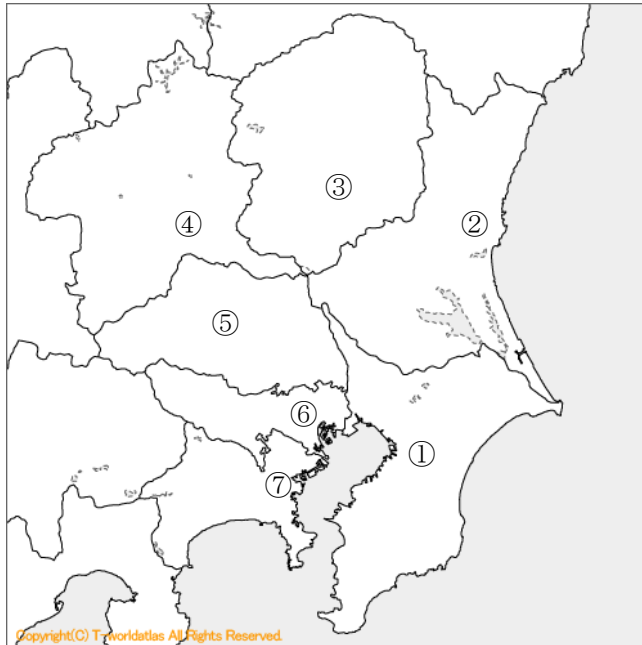


◎ 関東地方について、設問に答えましょう。

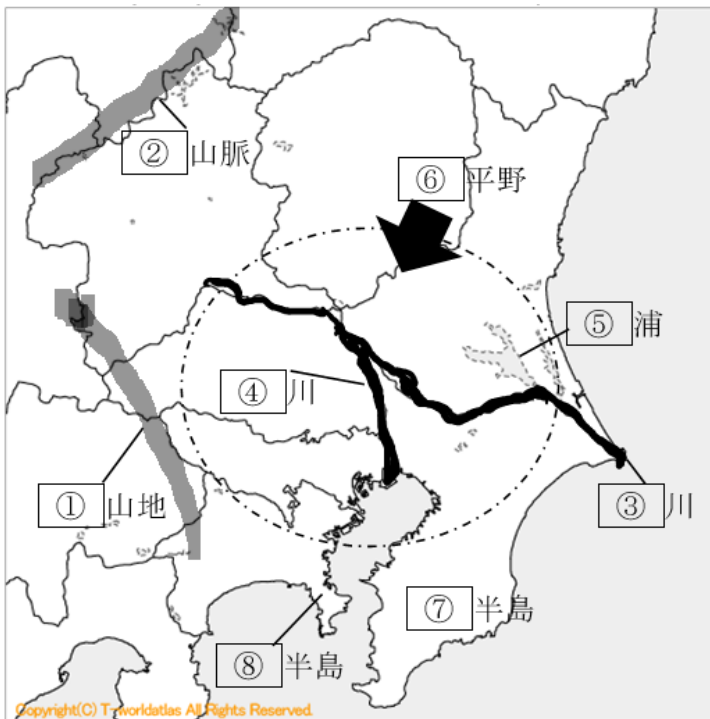
(1) 地図内の①～⑦の都県名と県庁所在地を書きましょう。



出典：日本発大規模白地図サイト
【世界地図 | SEKAICHIZU】

	都県名	都県庁所在地名
①		
②		
③		
④		
⑤		
⑥		
⑦		

(2) 地図内の①～⑧の名称を書きましょう。



出典：日本発大規模白地図サイト
【世界地図 | SEKAICHIZU】

①	山地
②	山脈
③	川
④	川
⑤	浦
⑥	平野
⑦	半島
⑧	半島

◎ 次の問いに答えましょう。

(1) 次の文の①～④にあてはまる適語を解答欄に書きましょう。

関東地方では、日本の歴史上初めて武家政権としての鎌倉幕府が開かれました。その後、1603年に(①)幕府がおかれ、政治の中心地として栄えました。また、現在の(②)である東京は明治、大正、昭和、平成、令和の時代を通して政治・経済の中心的な役割を果たしています。

また、近代工業の発達に伴って明治時代には公害問題が発生し、栃木県では(③)銅山の鉱毒が大きな被害を与える事件も起きました。反面、戦後のめざましい工業の発達に伴い、かつて四大工業地帯の一つに数えられた(④)工業地帯が形成され、現在は千葉県や茨城県の臨海部や関東の内陸部にも大きな工業地域が発達しています。

(1)	①	②	③
	④		

(2) 次の文のA～Eにあてはまる適語を解答欄に書きましょう。

関東地方には、南側と東側に太平洋が広がり、東京都の沖ノ鳥島は日本の(A)端にあたり、また、南鳥島は日本の(B)端にあたります。これらの離島があるので、200海里以内の経済水域は国土面積の10倍以上にもなります。

関東地方の地形に目を向けると、日本一の大きさを誇る(C)平野が広がり、他地方との境は高い山地や山脈が連なっています。気候的には、温暖な気候ですが、冬には(D)と呼ばれる冷たい北西の季節風が吹くなど、特徴的なものも見られます。

(E)県の成田空港や東京都の羽田空港に代表される空の玄関口もあり、外国から東京ディズニーランドや日光東照宮などの神社仏閣に多くの人を訪れます。

(2)	A	B	C
	D	E	

(3) 次の農業に関して説明をした①②の文章において(ア)～(ウ)にあてはまる語句を語群から選び、その符号を書きましょう。

① 千葉県では大消費地に近い利点を生かした農業が盛んです。下総台地では(ア)やスイカの栽培が盛んであり、南房総地区では温暖な気候を生かした(イ)が栽培され、アクアラインなどを利用して都心へ出荷しています。

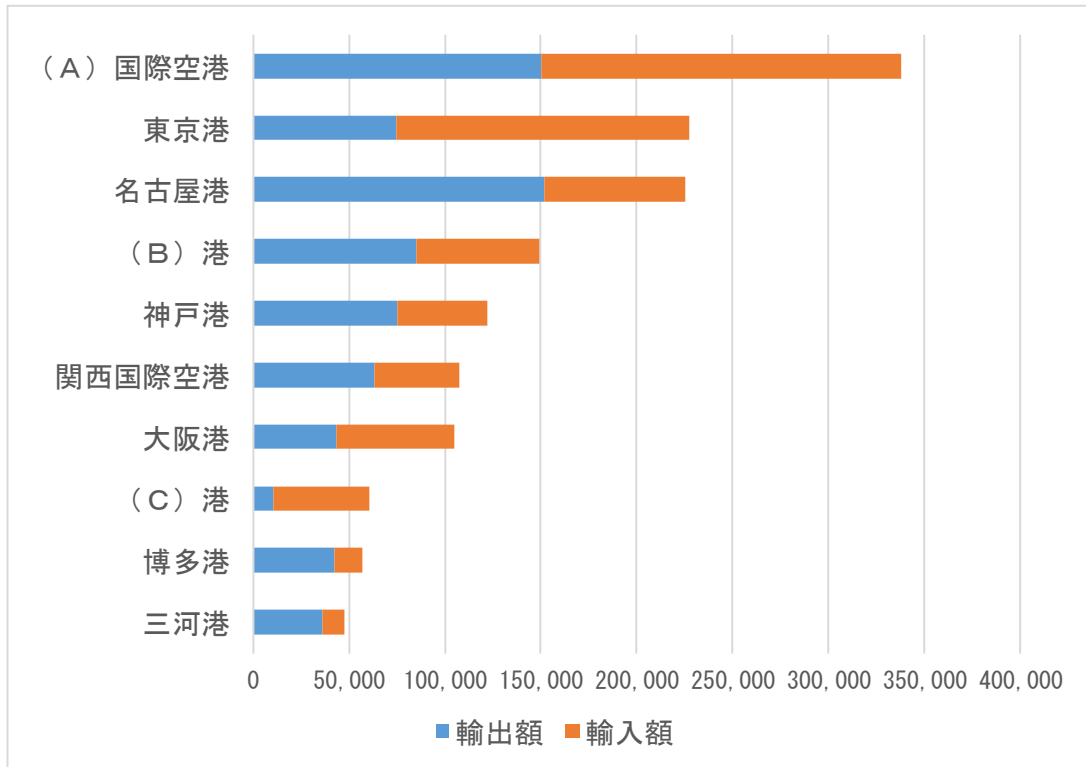
② 群馬県では、夏の冷涼な気候を利用して白菜やレタスなどの野菜の出荷時期を遅らせる(ウ)栽培を行っています。また、関越自動車道の開通でさらに都心方面への出荷が便利になっています。

(語群) じゃがいも 落花生 香辛料 花卉(かき) キャベツ 抑制 促成 近郊

(3)	ア	イ	ウ
-----	---	---	---

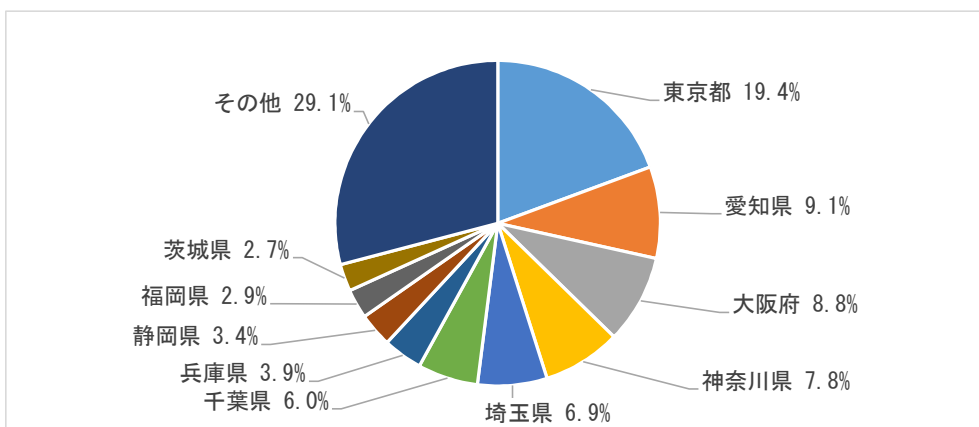
◎ 次のグラフ I, II をみて、関東地方と世界各地との結びつきについての設問に答えましょう。

【グラフ I 令和5年全国開港別貿易額 (上位10位) (単位: 億円)】



(出典: 税関ホームページ)

【グラフ II 在留外国人数の都道府県別割合】 (総数: 341万992人)



(出典: 在留外国人統計令和5年版)

(1) グラフ I 中の A, B, C は、いずれも関東地方にある港湾です。あてはまる地名を答えましょう。なお、A と C は同一県内に位置しています。B は、1858 年日米修好通商条約により開港されて以来「海の玄関」として利用されてきた港湾です。

(2) グラフ II を参考にして、外国人居住者について述べた文章中の①~④にあてはまる語句を、それぞれのア~エの中から選び、その符号を書きましょう。

外国企業や多くの情報が集まる東京都には、約 (①) 万人の外国人が住んでいます。全国の外国人登録者数の約 (②) 割にあたります。その出身国は (③)、大韓民国、フィリピンなどのアジア各地が約 7 割を占めています。かつて、中小工場の外国人労働者として来日した人も多く、群馬県大泉町では、日系 (④) 人が町の人口の約 20% を占めています。

- ① ア 30 万人 イ 65 万人 ウ 100 万人 エ 330 万人
 ② ア 1 イ 2 ウ 3 エ 4
 ③ ア ブラジル イ 中国 ウ アメリカ エ サウジアラビア
 ④ ア ブラジル イ 中国 ウ アメリカ エ サウジアラビア

(1)	A	B	C
(2)	①	②	③
	④		

(1) 下の資料を参考に次の文中の(ア)～(サ)にあてはまる語句を答えましょう。

都県名	面積(100 km ²)	人口(万人)
茨城県	6 1	2 8 7
栃木県	6 4	1 9 2
群馬県	6 4	1 9 2
埼玉県	3 8	7 3 8
千葉県	5 2	6 3 1
東京都	2 2	1,3 9 1
神奈川県	2 4	9 2 1
全国	3, 7 7 9	1 2, 4 8 9

出典：面積…国土地理院ウェブサイト
人口…総務省住民台帳に基づく人口

(令和6年) (令和6年)

平野の面積が広い関東地方は、日本の総人口の約(ア)分の1が集中し、特に東京、神奈川、埼玉、千葉の4都県は人口が多い。中でも東京都は面積は(イ)いが、人口は日本全体の約(ウ)割が集中し人口密度は(エ)い。

東京の都心には国会議事堂や首相官邸や中央官庁など国の重要な機関が集中し政治の中心となっている。また、大企業の本社や銀行の本店も多く(オ)の中心にもなっている。さらに都心周辺には日本全体に情報を発信する放送局や新聞社、出版社のほか博物館、美術館、大学なども多く文化の面でも重要な役割を果たしている。

都庁がある新宿や渋谷、池袋などは(カ)と呼ばれ、高層ビルが建ち並び、オフィス街、商店街が発達している。東京への人口集中が進み地価が高くなったため、多くの人たちは地価の安い郊外に住宅を求めた。そのため東京近郊の台地に(キ)の建設が進められた。その結果、通勤圏は都心から約70kmの範囲にまでおおよび、この地域を東京(ク)と呼んでいる。

また東京に多くの機能が集中したため、千葉市やさいたま市、横浜市に都心の機能の一部を移転する取り組みが進められた。その結果千葉市では(ケ)、さいたま市ではさいたま新都心、横浜市ではみなとみらい地区の開発が進んでいる。

日本中から多くの人や物が集まる東京は交通網が発達し、特に東京駅は新幹線や多くの路線のターミナル駅として重要な役割を担っている。また、高速道路も東京を起点としているものが多い。例えば名古屋と結ぶ(コ)高速道路、新潟と結ぶ関越自動車道、千葉県を通り現在は茨城までを結ぶ東関東自動車道などがある。航空路線も国内路線は東京を中心に発達しており(サ)空港がある。

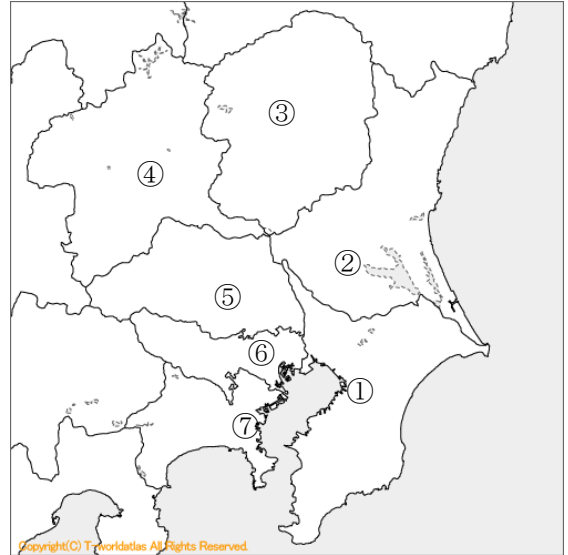
(1)	ア	イ	ウ	エ
	オ	カ	キ	ク
	ケ	コ	サ	

(1) 次の(ア)～(ウ)の説明文は、地図中の①～⑦におけるどこの都県の説明文にあたるのか、番号と都県名を答えましょう。

ア 孺恋村の高原野菜をはじめ、こんにゃくいもや養蚕は特産となっており、交通網の整備も進んでいる。

イ 温暖な気候を生かした草花栽培が盛んで、アクアラインを生かして首都圏方面へも積極的に出荷している。

ウ 臨海地域には砂浜を掘り込んで人工的に作った港や工業地域があり、日本初の原子力発電所、大学や研究施設が集まった研究学園都市もある。



出典：日本発大規模白地図サイト
【世界地図 | SEKAICHIZU】

(2) 日本の首都、東京の役割について述べた文章中の①～④にあてはまる適語を選択肢から答えましょう。

東京の中心は (①) と呼ばれ、国会議事堂やおもな中央官庁、最高裁判所など日本を動かす中枢機能が集中しています。また、スカイツリーや国立競技場等の各種施設があり、観光客や施設利用者でにぎわっています。都庁がある (②) や渋谷、池袋などは副都心と呼ばれ、高層ビルが建ち並び、オフィス街、商店街が発達しています。また、テレビや新聞、出版社などの本社、さらに大学や大使館なども東京都に集中しており、(③) が進んでいます。最近では、お台場地区や汐留、六本木地区などの再開発が行われ、商業施設やテーマパークなどに多くの人々が訪れています。東京は日本各地の多くの都市と同様にさまざまな都市問題を抱えており、大気汚染や交通渋滞、(④) の問題が深刻です。特に (④) の問題は埋め立てへの依存も限界に近づいてきており、分別によるリサイクルの徹底や新たな処理施設の建設が急務となっています。

選択肢

品川 新宿 世田谷 都心 一極集中 繁華街 ニュータウン
ごみ 人口 ターミナル 都市再開発 多極化 土地分譲

(1)	ア			イ		ウ	
(2)	①			②		③	
	④						

地理2 第1章 日本の様々な地域 (6) 日本の諸地域 (関東地方)

<①>

(1)

	県名	県庁所在地名		都県名	都県庁所在地名
①	千葉県	千葉市	⑤	埼玉県	さいたま市
②	茨城県	水戸市	⑥	東京都	東京
③	栃木県	宇都宮市	⑦	神奈川県	横浜市
④	群馬県	前橋市			

- (2) ① 関東山地 ② 越後山脈 ③ 利根川 ④ 江戸川
 ⑤ 霞ヶ浦 ⑥ 関東平野 ⑦ 房総半島 ⑧ 三浦半島

【解説】 (1) 基本的な名称です。

- ④ 「群馬」の「群」が「郡」と混同していないかに注意です。
 ⑤ 「さいたま市」の平仮名表記に注意です。
 ⑥ 「東京」の答え方がポイントです。

(2) ⑤ 「霞ヶ浦」の漢字間違いに注意が必要です。

<②>

- 【解答】 (1) ① 江戸(幕府) ② 首都 ③ 足尾 ④ 京浜(工業地帯)
 (2) A 南(端) B 東(端) C 関東 D からっ風 E 千葉
 (3) ア 落花生 イ 花卉(かき) ウ 抑制

<③>

- 【解答】 (1) A 成田 B 横浜 C 千葉
 (2) ① イ ② イ ③ イ ④ ア

【解説】 (1) B 日米修好通商条約で開港した港は、横浜港、函館港、長崎港、新潟港、神戸港の5港です。

(2) ①は円グラフの都道府県別の外国人登録者数の全体(約)341.992万人の19%が東京にいるので(式) $342万 \times 0.19 = 64.98$ となり、約65万人となります。

②グラフの東京都19.4%から約2割となります。

<④>

- 【解答】 (1) ア 3 イ 狭(い) ウ 1 エ 高(い) オ 経済
 カ 副都心 キ ニュータウン ク 大都市圏 ケ 幕張新都心
 コ 東名 サ 東京国際(羽田)

【解説】 ア 10万の単位を四捨五入して100万の位で概算すると素早くできる。

茨城県3 + 栃木県2 + 群馬県2 + 埼玉県7 + 千葉県6 + 東京都14 + 神奈川県9
 = 43 $43 \div 125 \approx 0.33 \Rightarrow$ 3分の1

ウ 東京都の人口 1391万人 全国の人口 1億2489万人 だから
 $1391 \div 12489 = 0.111$ だから約1割

<⑤>

【解答】 (1) ア ④ 群馬県 イ ① 千葉県 ウ ② 茨城県
(2) ① 都心 ② 新宿 ③ 一極集中 ④ ごみ

【解説】 (2) ④は他の都市問題も考えられますが、選択肢から「ごみ」を正答とします。

<⑥>

【解答】 東京では、自動車の排出ガスなどによる大気汚染、道路の渋滞、住宅問題、ごみ処理などの都市問題が山積している。一方、都市再開発により、都心地域に高層住宅が建設されている。(85字)

【解説】 都市問題は、他に水質汚濁や騒音などが考えられます。また、(都市)再開発により商業施設やテーマパークが作られていることもあげられます。さらに、(都市)再開発により都心地域に高層住宅が建設され、都心の人口が増えるという都心回帰という現象もみられます。

<⑦>

【解答】 (1) 大消費地が近く、高速道路や鉄道などの輸送手段が整備されて、商品を新鮮な状態で届けることが可能となったため。(53字)

(2) 京浜工業地帯や北関東工業地域では機械工業が全生産額の約半分を占め、生産額もほぼ同額である。また、京葉工業地域では化学工業の割合が第1位を占めている。(74字)

【解説】 (1) 大消費地が近いこと、輸送手段が整備されたことの2点に触れていることがポイントです。(2) 3つの工業地域・地帯では産業別生産額に特色があり、京浜工業地帯と北関東工業地域では機械工業が全生産額の約半分を占めると同様の特色があり、化学工業主体の京葉工業地域とは違っていることに気づくことがポイントです。

<⑧>

【解答】 首都東京は政治、経済、文化の中心である。日本の人口の約1割が住み大消費地でもある。交通網も鉄道、高速道路、航空路線全て東京を中心に発達している。放送局や新聞社もあり、人・もの・情報が集まってくる。集まった情報は国内だけでなく海外にも発信されている。東京に近い横浜港は日本有数の貿易港であり、成田国際空港は日本最大の貿易港として世界と結びついている。(173字)

【解説】 関東地方では近郊農業によって大消費地東京に1年中野菜や花が供給されている。工業(生産)の面でも京浜工業地帯や京葉工業地域のみならず、高速道路の整備により北関東地域でも自動車や電気機器などの工場がつけられ工業地域が拡大している。そして、そこで作られた製品が東京をはじめとする消費地に送られたり海外に輸出されたりしている。