

◎ 右の地図中の①～⑦の府県名と a～g の府県庁所在地名を書きましょう。

解答欄

①	
a	

②	
b	

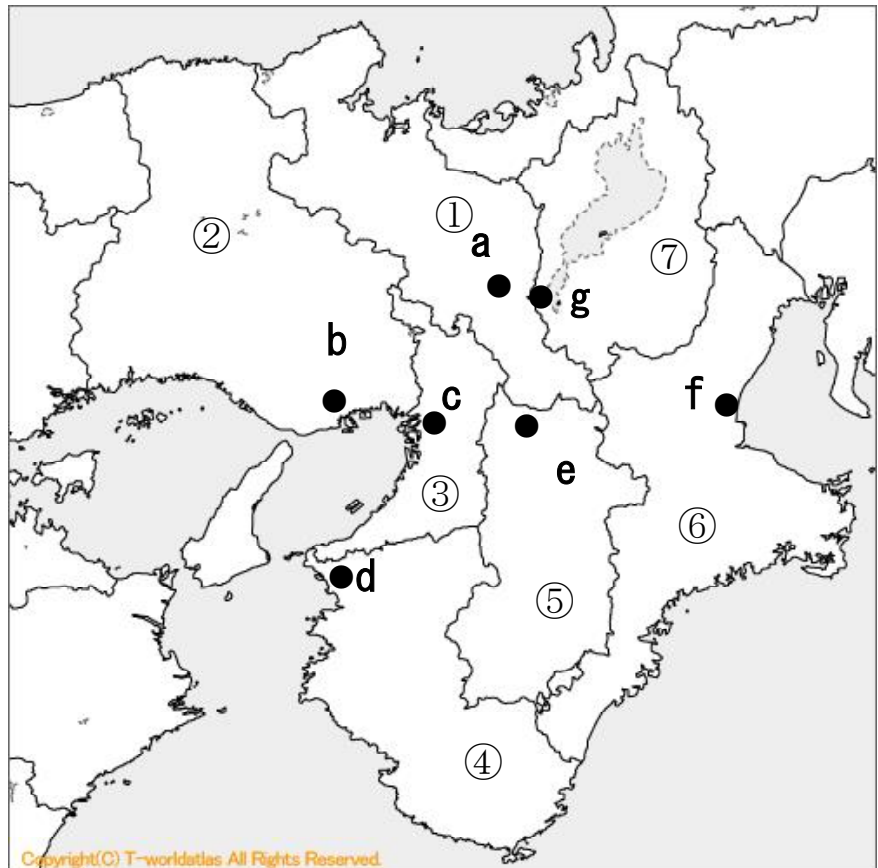
③	
c	

④	
d	

⑤	
e	

⑥	
f	

⑦	
g	



出典：日本発大規模白地図サイト  
【世界地図 | SEKAICHIZU】

◎ 右の地図中の①～④は山脈・山地・高地, a～dは河川・湖, ア～オは平野・盆地の名称を書きましょう。

解答欄

山脈・山地・高地名

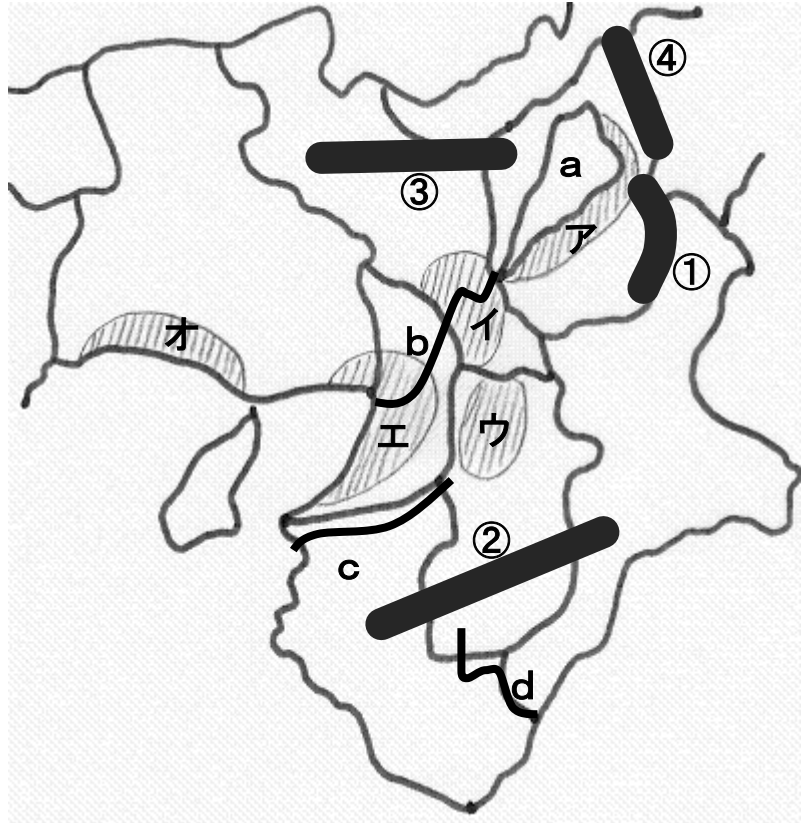
①	山脈
②	山地
③	高地
④	山地

河川・湖名

a	湖
b	川
c	川
d	川

平野・盆地名

ア	盆地
イ	盆地
ウ	盆地
エ	平野
オ	平野



◎ 次の文を読み、文章中の①～⑨にあてはまる言葉を答えましょう。

近畿地方は、日本の歴史上、長い間、日本の政治や経済の中心となった地域です。世界で最も広い墓として有名な大仙(山)古墳をはじめ、多くの古墳が残っています。また、聖徳太子が建てたといわれる世界最古の木造建築物である(①)寺、奈良時代に聖武天皇の命令で造営され、現在、世界最大の木造建築物である(②)寺の大仏殿、その頃の様々な御物が納められた校倉造の正倉院、世界遺産に登録されている姫路城などの歴史的遺産もあります。

京都や奈良には、歴史的遺産だけでなく、西陣織や清水焼など、長い歴史を持つ(③)の生産や祇園祭やお水取りなど、伝統的な年中行事・祭りも数多く続いています。

大阪を中心とした(④)工業地帯では、金属・機械・化学工場などが建ち並び、日本の経済・産業発展に貢献してきました。しかし、一方では、水質汚濁や大気汚染、地下水を大量にくみ上げたことによる(⑤)、都市部に(⑥)が集中する過密問題などの様々な問題も起き、現在、環境保全に向けての取組が進められています。

(⑦)県北部は、名古屋に近いこともあり、工業が盛んとなりましたが、(⑧)コンビナートからの排煙による大気汚染が原因となり、(⑨)という公害病も発生しました。

解答欄

①	②	③

④	⑤	⑥

⑦	⑧	⑨

◎ 琵琶湖の水利用や水質汚濁問題及び水質改善の取組について、( )に当てはまる言葉を答えましょう。

滋賀県の中央部に位置する琵琶湖は、日本最大の湖です。京都に水を供給するため、明治時代に琵琶湖疎水がつくられるなど、琵琶湖の水は、滋賀県内だけでなく、近畿地方の人々の生活や産業活動を支える水資源として利用され、「近畿の( ① )」とも呼ばれています。

戦後、( ② )排水や( ③ )排水が増加し、また、( ④ )を含む合成洗剤の使用などが原因で赤潮が発生したり、アオコや水草が異常に増えたりするなど、水質汚濁が深刻な問題となりました。そこで、市民運動や県による様々な条例(法律)の制定など、水質浄化の取組が続けられています。琵琶湖は、1993年には( ⑤ )条約湿地にもなりました。

琵琶湖の環境保全については、湖水の浄化だけでなく、水源のある山々の森林減少対策、節水などにも取り組んでいく必要があります。

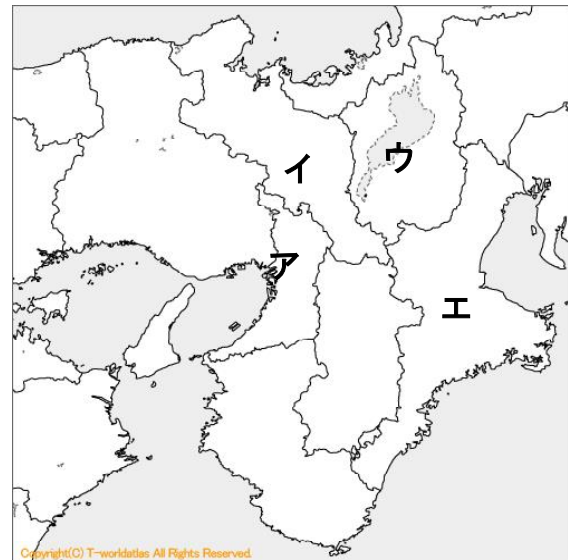
解答欄

①	②	③

④	⑤

◎ 近畿地方の地域的特色について、(1)～(3)の文と関わりの深い地域を地図のア～エから選び、記号を書きましょう。また、文中の(A)～(G)に当てはまる言葉を□の中から選んで答えましょう。

都市	碁盤の目	放射状
水質汚濁	伝統的工芸品	
玄関	台所	森林
歴史的	地理的	琵琶湖
国際観光	瀬田	



出典：日本発大規模白地図サイト  
【世界地図 | SEKAICHIZU】

- (1) 大阪は、豊臣秀吉が大阪城を築いたことでも有名だが、江戸時代に全国の経済の中心地となり「天下の( A )」と呼ばれていた。明治時代になると工業が発達し、日本の産業・経済を支えてきた。一方では、水質汚濁や大気汚染などの公害問題の他、人口の過密化や交通渋滞などの( B )問題も起きている。
- (2) 京都府の中心地の道路は、( C )のように、整然としている。これは、平安京がつくられた頃の名残である。市街には数多くの文化遺産が残り、( D )都市として、多くの観光客が訪れている反面、高層ビルの建築などにより、( E )景観が失われるという問題も起きている。
- (3) 琵琶湖には、数多くの川が流れこんでいるが、琵琶湖の水は、( F )川から流れ出るだけである。また、琵琶湖南部は水深が浅い。このような地形的な要因や水質浄化の役割を果たす湖岸のヨシ群落の減少も( G )の一因となっている。そこで、1992年にはヨシ群落保全条例が制定された。

解答欄

(1)	地域	A	B
(2)	地域	C	D E
(3)	地域	F	G

地理2 第1章 日本の様々な地域 (4) 日本の諸地域 (近畿地方) ⑥

組 番 名前

---

◎ 下の表は、近畿地方にある世界遺産（2020年現在）をまとめたものです。（ ）に当てはまる言葉を□の中から選んで答えましょう。また、③と⑤については世界遺産がある府県名も答えましょう。

紀伊山地	白神山地	古都奈良	古都京都	鎌倉	和歌山	滋賀
兵庫	新勝寺	法隆寺	姫路城	彦根城	百舌鳥・古市古墳群	大阪

解答欄

	名 称	所在地（府県）
①	（ ）地域の仏教建造物	奈良県
②	（ ）	兵庫県
③	（ ）の文化財	京都府，（ ）県
④	（ ）の文化財	奈良県
⑤	（ ）の霊場と参詣道	三重県，奈良県，（ ）県
⑥	（ ）	（ ）府



組 番 名前

---

◎ 京都は年間5200万人以上の観光客を集める観光都市です。なぜ多くの観光客が京都に魅力を感じるのか、歴史的背景にふれながら、自分の考えを100字以内で書きましょう。

【思・判・表】

解答欄


30  
60  
90  
100





地理2 第1章 日本の様々な地域 (4) 日本の諸地域 (近畿地方) ①

- 【解答】① 京都府 a 京都市  
② 兵庫県 b 神戸市  
③ 大阪府 c 大阪市  
④ 和歌山県 d 和歌山市  
⑤ 奈良県 e 奈良市  
⑥ 三重県 f 津市  
⑦ 滋賀県 g 大津市

【解説】○ 近畿地方の府県名と府県庁所在地, 主な山脈や河川などについての基本問題です。

地理2 第1章 日本の様々な地域 (4) 日本の諸地域 (近畿地方) ②

- 【解答】① 鈴鹿 (山脈) ② 紀伊 (山地) ③ 丹波 (高地) ④ 伊吹 (山地)  
a 琵琶 (湖) b 淀 (川) c 紀ノ (川) d 熊野 (川)  
ア 近江 (盆地) イ 京都 (盆地) ウ 奈良 (盆地) エ 大阪 (平野)  
オ 播磨 (平野)

地理2 第1章 日本の様々な地域 (4) 日本の諸地域 (近畿地方) ③

- 【解答】① 法隆 (寺) ② 東大 (寺) ③ 伝統 (的) 工芸品  
④ 阪神 ⑤ 地盤沈下 ⑥ 人口  
⑦ 三重 ⑧ 石油化学 ⑨ 四日市ぜんそく

【解説】○ 近畿地方の歴史, 産業, 環境問題についての基本問題です。

- ・古代から政治や文化の中心であった近畿地方には, 数多くの文化遺産が残されています。
- ・工業が盛んな一方, 様々な環境問題や都市問題が起き, 様々な対策が行われているという面も近畿地方の特徴です。

地理2 第1章 日本の様々な地域 (4) 日本の諸地域 (近畿地方) ④

- 【解答】① 水がめ ② 生活 (工業) ③ 工業 (生活)  
④ リン ⑤ ラムサール

【解説】○ 近畿地方の環境問題についての問題です。

- ・琵琶湖の水は, 農業・工業・生活用水などとして幅広く利用されていますが, 周辺地域の開発や汚れた水が流れ込むなどが原因で水質が悪化する問題が起きました。住民運動や条例制定などの取組により, 水をきれいにする動きが進んでいます。

地理2 第1章 日本の様々な地域 (4) 日本の諸地域 (近畿地方) ⑤

【解答】

(1)	地域 ア	A 台所	B 都市
(2)	地域 イ	C 碁盤の目	D 国際観光 E 歴史的
(3)	地域 ウ	F 瀬田	G 水質汚濁

【解説】○ 近畿地方の地域的特色についての問題です。

- ・ 阪神工業地帯は、日本最大の工業地域となった時期もありますが、産業構造の変化などの理由により、地位は低下しています。人口が集中し過ぎて、生活が不便になったり、公害が起きたりしましたが、問題を解決するために様々な取組が行われています。

地理2 第1章 日本の様々な地域 (4) 日本の諸地域 (近畿地方) ⑥

- 【解答】
- ① 法隆寺
  - ② 姫路城
  - ③ 古都京都 府県…滋賀 (県)
  - ④ 古都奈良
  - ⑤ 紀伊山地 府県…和歌山 (県)
  - ⑥ 百舌鳥・古市古墳群 府県…大阪 (府)

【解説】○ 世界遺産についての問題です。

- ・ 近畿地方は、日本の各地域の中でも特に多くの世界遺産があります (全国23箇所中6箇所)。名称だけでなく、場所や内容などについても確認しておきましょう。

地理2 第1章 日本の様々な地域 (4) 日本の諸地域 (近畿地方) ⑦

【解答】

- ① 琵琶湖の水質汚濁

家庭や工場からの排水などによって琵琶湖は汚れた。水を汚さないための市民運動や法律 (条例) の制定などが行われてきた。役所や工場の対策だけではなく、一人一人ができることを考え、人々が協力して取り組む必要がある。(103字)

- ② 阪神工業地帯の環境問題

工業が盛んな反面、公害や地盤沈下、人口過密などの問題が起きている。工場からの排水・排煙をきれいにしたり、鉄道や道路を整備して混雑を減らしたり、工場や住宅地を分散させたりして、住みやすい環境をつくる必要がある。(104字)

【解説】○ 環境問題とその対策に関して、説明する問題です。

- ・ 産業の発達や人口増加、生活の変化などにより、かえって住みにくくなったり、自然破

壊が起きたりしてきました。法律（条例）の制定や対策事業，市民運動などにより，改善されてきたところもありますが，ばらばらに取り組むのではなく，より総合的な対策や私たち市民一人一人の意識や行動も大切です。

地理2 第1章 日本の様々な地域 (4) 日本の諸地域(近畿地方)⑧

【解答】 古代の政治の中心地であり，奈良時代から平安時代にかけて建設された寺院がたくさん残っていること。山と川で縁取られた風景，風景と一体化した歴史ある建築物。建築物を引き立てる庭園や通りなど全体の調和を考慮して町が形作られているから。(100字)

地理2 第1章 日本の様々な地域 (4) 日本の諸地域(近畿地方)⑨

【解答】 文化遺産は，とても貴重なものであり，**国際観光都市**には外国からも多くの観光客が訪れるので，観光資源としても重要である。しかし，そこに住む人々の暮らしも大切である。そこで，例えば，町並みを昔風にしたり，ビルの高さ制限をしたりして，**歴史的景観**を守りながら，**住民の生活**も守れるように，工夫をしていく必要がある。(149字)

【解説】 ○ 文化遺産の保護と住民生活の両立について，自分の考えを論述する問題です。

- ・文化遺産は，一度壊されてしまえば，二度と元には戻りません。貴重な文化遺産があるからこそ，世界からも観光客が訪れ，観光産業も盛んになります。その一方で，地域住民の生活を妨げるような制限は，現実的に難しいことです。
- ・実際に取り組まれている例として，家を建て替えるときに補助金を出して，昔風の雰囲気を出せるような外観にする，ビルの高さ制限をする，電線を地下に埋める，自動販売機の色を木目調にする，といったものがあります。明らかに現実的でない場合は別として，人々がいろいろなアイデアを出し合うことがよりよい取組につながります。