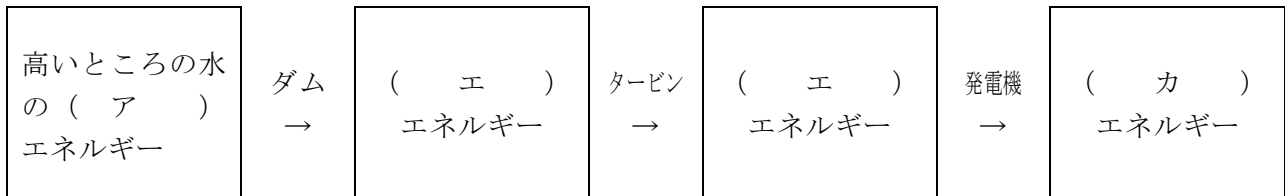


科学技術と人間（エネルギーの利用） <基本問題①>

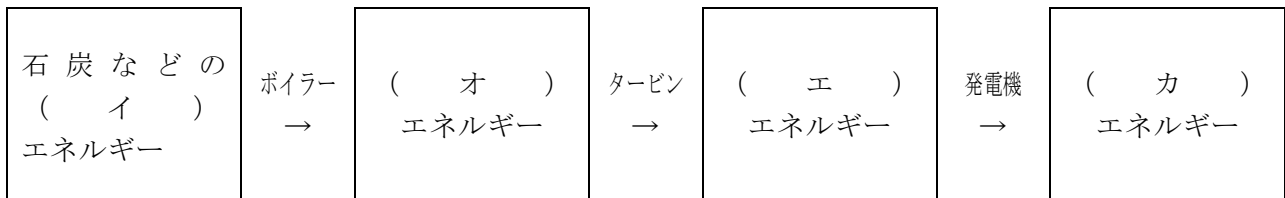
組 番 名前

次の①～③は、火力発電、水力発電、原子力発電のしくみを示したものである。これに関して、次の問いに答えなさい。

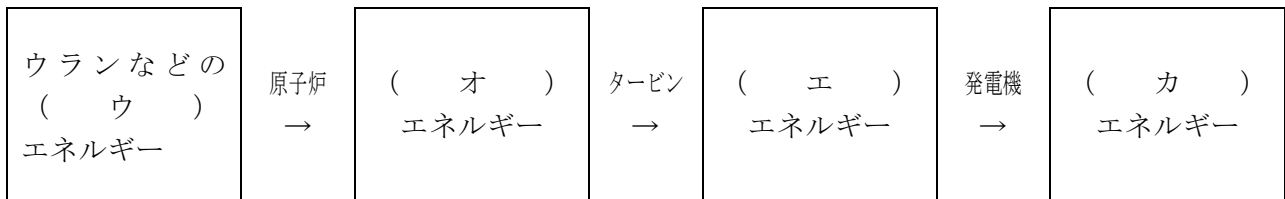
①



②



③



(1) ①～③にあてはまる発電として最も適当なものを、「火力発電・水力発電・原子力発電」のうちからそれぞれ一つずつ選び書きなさい。

(2) ①～③の、(ア)～(カ)にあてはまるものとして最も適当な言葉を、それぞれ書きなさい。

(1)	①		②		③	
(2)	ア		イ		ウ	
	エ		オ		カ	

理科 3 科学技術と人間（エネルギーの利用） < 解答 >

< 基本問題① >

(1)	①	水力発電	②	火力発電	③	原子力発電
(2)	ア	位置	イ	化学	ウ	核
	エ	運動	オ	熱	カ	電気