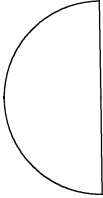


チャレンジ問題 (分数のパズル)

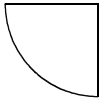
くみ ばん 名まえ

下の  の中にある ピースを つかって、<sup>まる</sup>丸をつくります。


<つかう ピースの <sup>かたち</sup>形>



$\frac{1}{2}$  のピース




$\frac{1}{4}$  のピース



$\frac{1}{8}$  のピース


<こたえ>

- (1) 3しゅるいの ピースの中から どれか一つを えらびます。  
えらんだ ピースを なんまいつかえば丸になりますか。  
こたえを 右の 丸に かきましょう。




<こたえ>

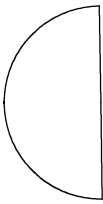
- (2) 3しゅるいの ピースを つかって丸をつくりましょう。  
3しゅるいの ピースは なんまいでもつかえます。  
こたえを 右の 丸に かきましょう。



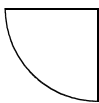
チャレンジ問題 (分数のパズル) こたえ・せつめい

下の  の中にある ピースを つかって、<sup>まる</sup>丸をつくります。

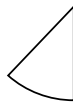
<つかう ピースの <sup>かたち</sup>形>



$\frac{1}{2}$  のピース



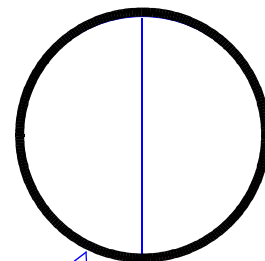
$\frac{1}{4}$  のピース



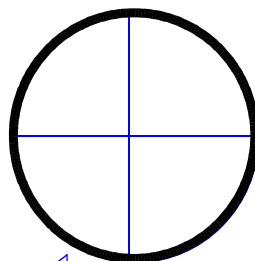
$\frac{1}{8}$  のピース

<こたえ>

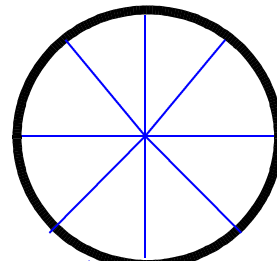
- (1) 3しゅるいの ピースの中から どれか一つを えらびます。  
えらんだ ピースを なんまいつかえば丸になりますか。  
こたえを 右の 丸に かきましょう。



2分の1の ピースを 2まい。



4分の1の ピースを 4まい。

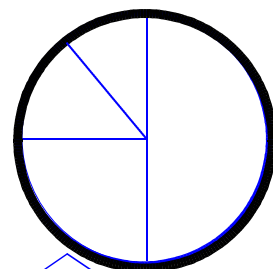


8分の1の ピースを 8まい。

<こたえ>

- (2) 3しゅるいの ピースを つかって丸をつくりましよう。  
3しゅるいの ピースは なんまいでもつかえます。  
こたえを 右の 丸に かきましょう。

※2しゅるいの ピースを つかって丸をつくっても おもしろいですね。



2分の1の ピースを 1まいと、  
4分の1の ピースを 1まいと、  
8分の1の ピースを 2まい。