

小4 算数「式と計算の順じよ」

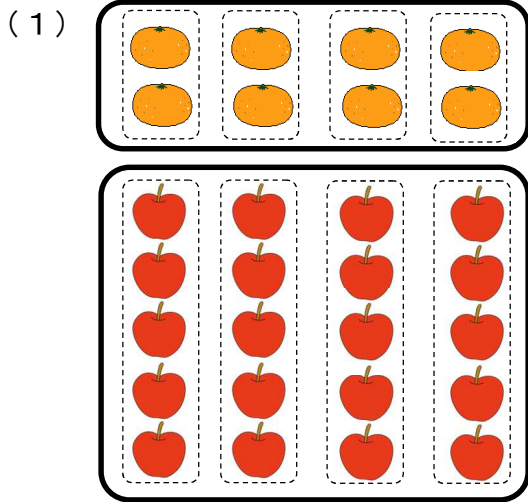
組 番 氏名 _____

1 次の計算をしましょう。

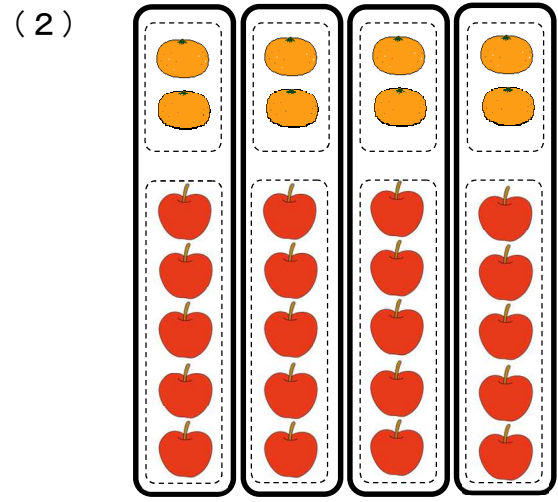
(1) $36 \div 6 \times (13 + 27)$

(2) $48 - 32 \div 8 \times 2$

2 みかんとりんごの個数の和を、次のように求めました。図にあう式を選び記号で答えましょう。



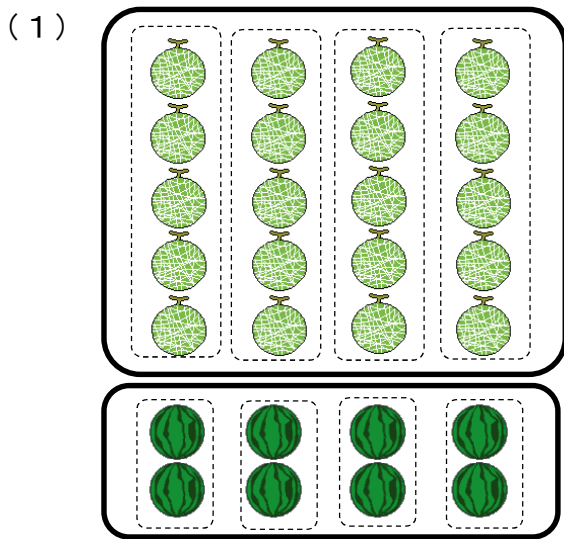
答え _____



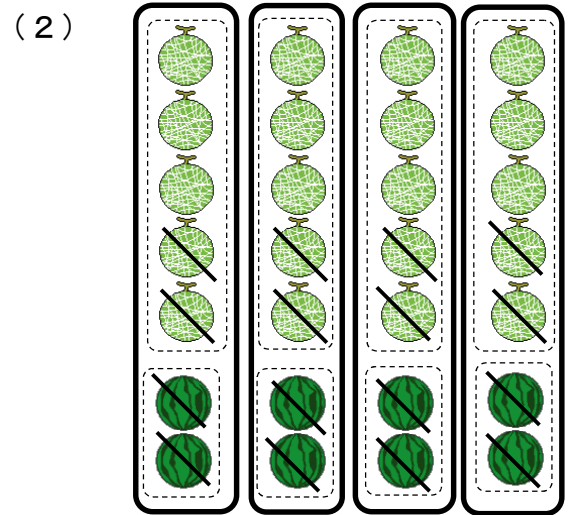
答え _____

- | | |
|-----------------------------|-----------------------------|
| ア $4 \times 2 + 4 \times 5$ | イ $2 \times 4 + 5 \times 4$ |
| ウ $(2 + 5) \times 4$ | エ $4 \times (2 + 5)$ |

3 メロンとすいかの個数の差を、次のように求めました。図にあう式を選び記号で答えましょう。



答え _____



答え _____

- | | |
|-----------------------------|-----------------------------|
| ア $(5 - 2) \times 4$ | イ $4 \times 7 - 4 \times 5$ |
| ウ $4 \times 5 - 4 \times 2$ | エ $5 \times 4 - 2 \times 4$ |

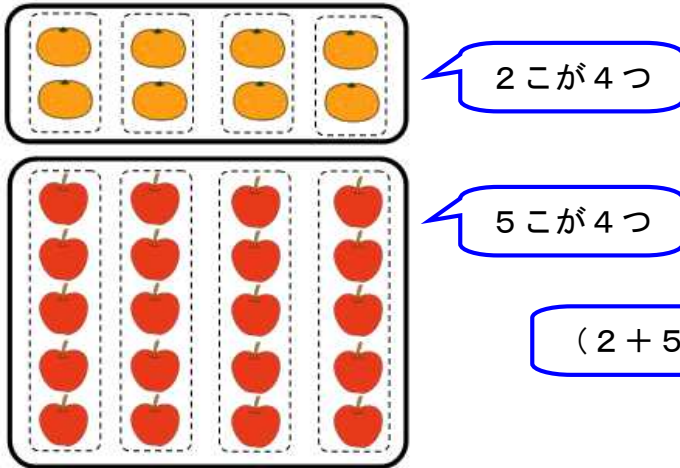
小4 算数「式と計算の順じょ」かい答・かい説

1 次の計算をしましょう。

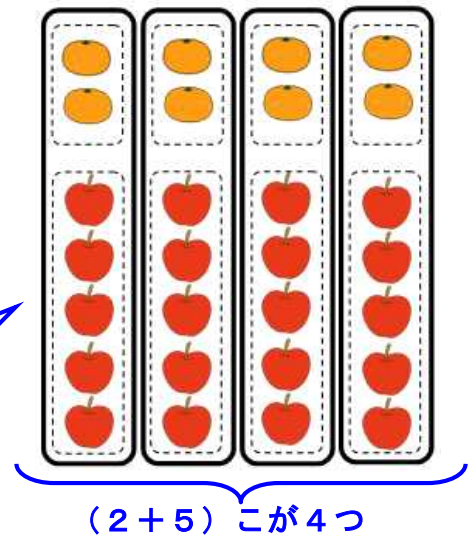
$$\begin{aligned} (1) & 36 \div 6 \times (13 + 27) \\ & = 36 \div 6 \times 40 \quad \text{ここを先に計算} \\ & = 6 \times 40 \\ & = 240 \end{aligned}$$

$$\begin{aligned} (2) & 48 - 32 \div 8 \times 2 \\ & = 48 - 4 \times 2 \quad \text{ここを先に計算} \\ & = 48 - 8 \\ & = 40 \end{aligned}$$

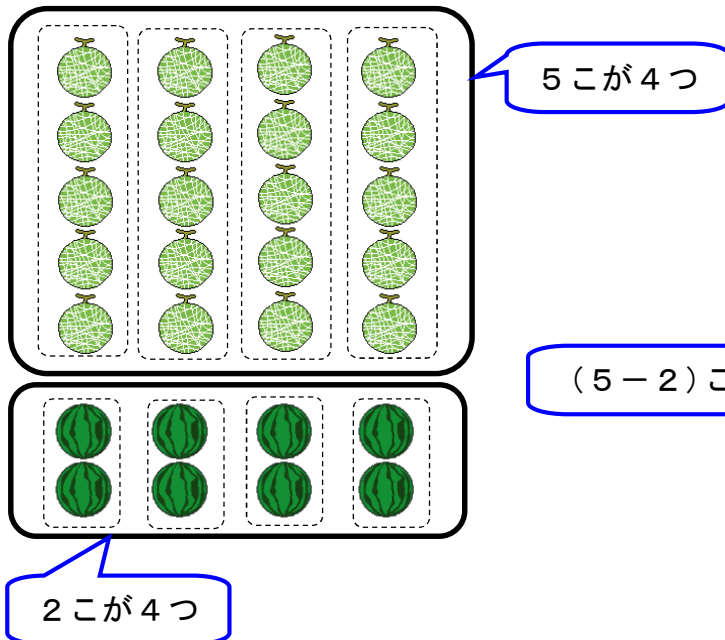
2 (1) 答え イ



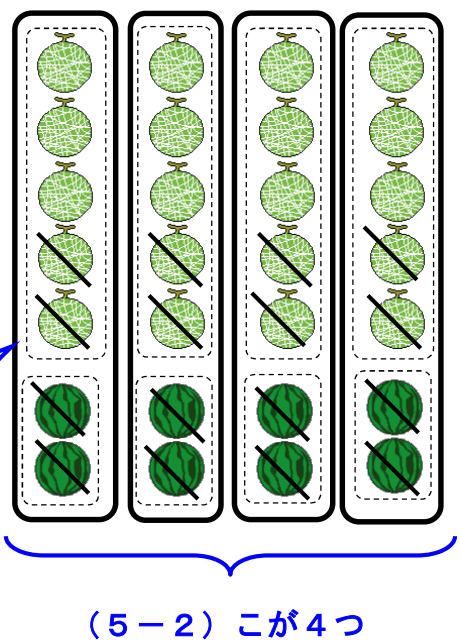
(2) 答え ウ



3 (1) 答え エ



(2) 答え ア



【ふりかえり】

和・・・たし算の答え
積・・・かけ算の答え

差・・・ひき算の答え
商・・・わり算の答え