











1 ある時間に、学校の前を通った乗りものを調べたら、次のようでした。

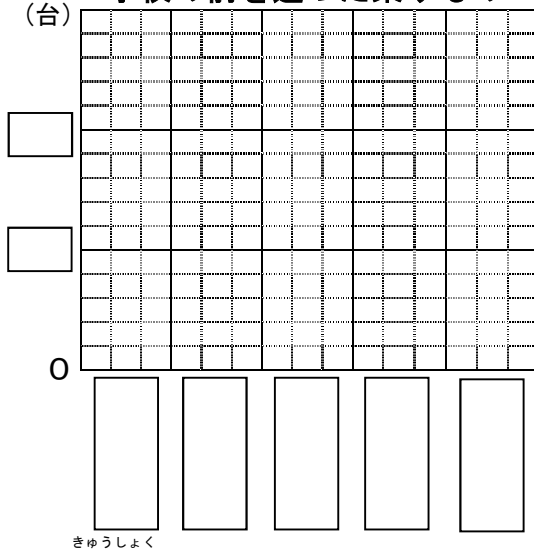


(1) 絵を見て表に整理しましょう。(2) 台数の多いじゆんに、ぼうグラフに表しましょう。

学校の前を通った乗りもの

乗りもののしゅるい	台数(台)
<small>じょうようしゃ</small> 乗用車   	
トラック 	
オートバイ 	
バス 	
その他   	

学校の前を通った乗りもの

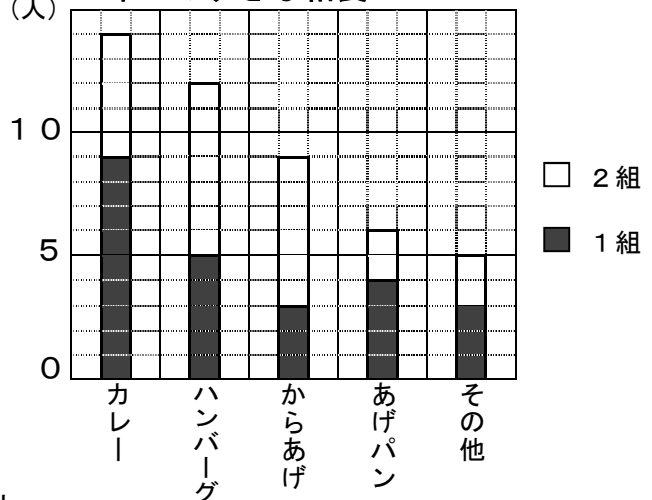


2 ゆう子さんは、3年生の1組と2組ですきな給食メニューについて調べました。表とぼうグラフを見て問題に答えましょう。

3年生のすきな給食メニュー

メニュー	人数(人)
カレー	14
ハンバーグ	12
からあげ	9
あげパン	6
その他	5

3年生のすきな給食メニュー



- (1) 正しいものを2つえらびましょう。
- ア 2組では、ハンバーグが一番人気だね。
 - イ 1組では、あげパンよりもからあげが人気だよ。
 - ウ 3年生で一番人気があるのは、カレーだよ。
 - エ 2組では、カレーが好きな人とあげパンが好きな人の人数は同じだよ。

答え (と)

小3 算数「表とグラフ」かい答・かいせつ

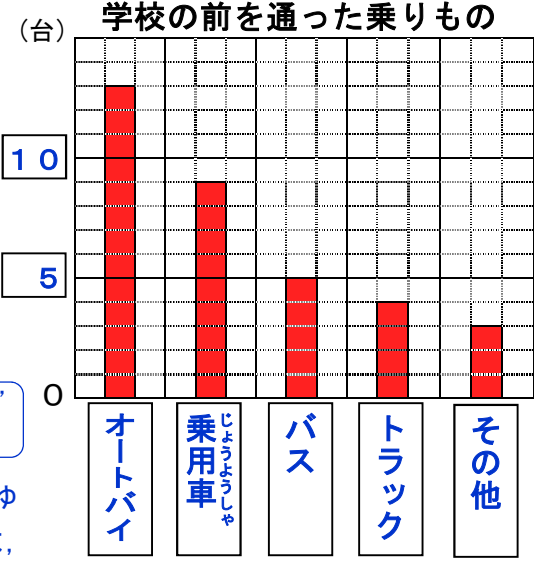
1

(1) 絵を見て表に整理しましょう。(2) 台数の多いじゆんに、ぼうグラフに表しましょう。

学校の前を通った乗りもの

乗りもののしゅるい	台数(台)
しょうようしゃ 乗用車	9
トラック	4
オートバイ	13
バス	5
その他	3

正 下
正 下
正 正 下
正 下
正 下



台数を数えるときには、「正」をつかうと、べんりです。

【かいせつ】

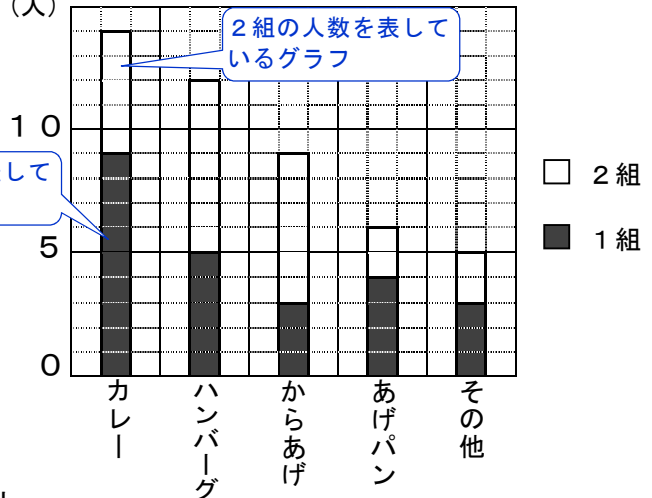
表の台数を調べてから、台数の多いじゆんに、ぼうグラフを作ります。その他は、いつもさいごになります。

2

3年生のすきな給食メニュー

メニュー	人数(人)
カレー	14
ハンバーグ	12
からあげ	9
あげパン	6
その他	5

3年生のすきな給食メニュー



- (1) 正しいものを2つえらびましょう。
- ア 2組では、ハンバーグが一番人気だね。
 - イ 1組では、あげパンよりもからあげが人気だよ。
 - ウ 3年生で一番人気があるのは、カレーだよ。
 - エ 2組では、カレーが好きな人とあげパンが好きな人の人数は同じだよ。

答え (ア と ウ)

【かいせつ】

表の人数は、1組と2組を合わせた人数です。ぼうグラフは、1組と2組を分けたグラフになっています。ぼうグラフで、2つのグラフを積み重ねると合計がわかりやすくなります。