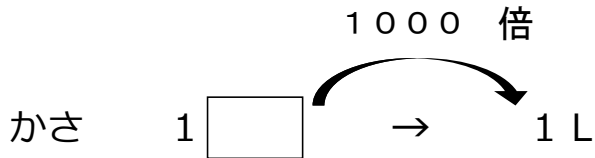

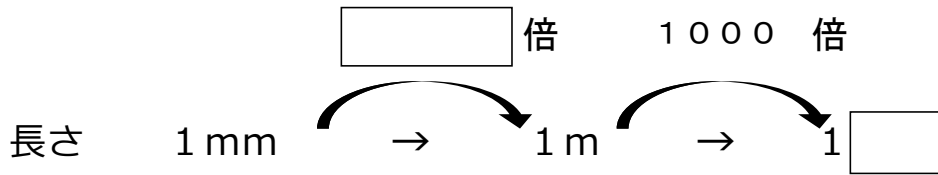


1 次の  にあてはまる数やたんいを書きましょう。



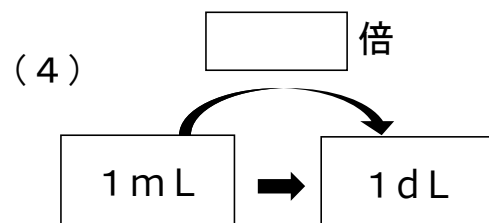
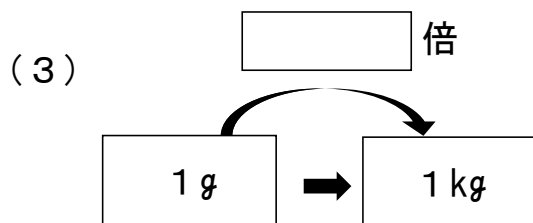
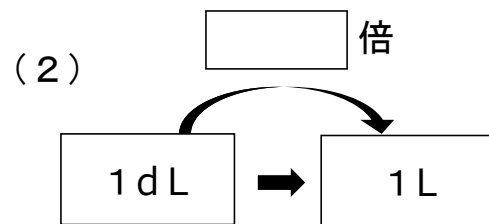
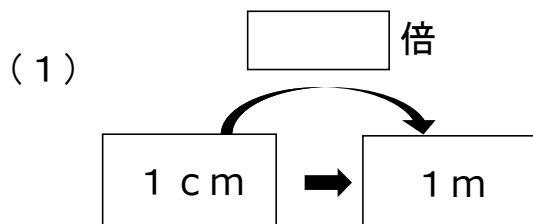
2  にあてはまる数を書きましょう。

(1) 1 m =  mm

(2) 1 kg =  g

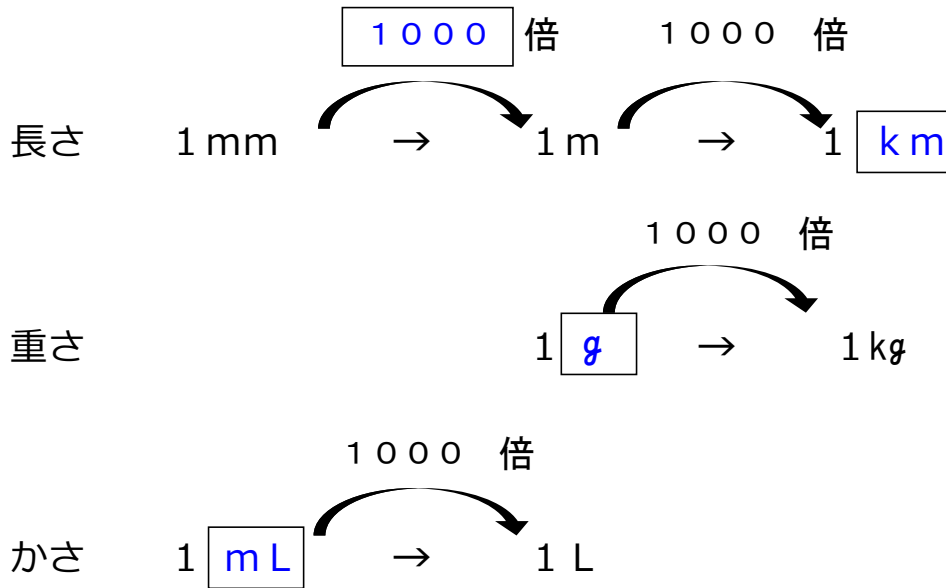
(3) 1 L =  mL

3 次の  にあてはまる数を書きましょう。



### 小3 算数「たんのしくみ」かい答・かいせつ

1 次の  にあてはまる数やたんいを書きましょう。



2  にあてはまる数を書きましょう。

(1)  $1\text{ m} = \text{  mm}$

(2)  $1\text{ kg} = \text{  g}$

(3)  $1\text{ L} = \text{  mL}$

3 次の  にあてはまる数を書きましょう。

