

1 にあてはまる数をかきましょう。

(1) 1分 = 秒

(2) 1時間 = 分

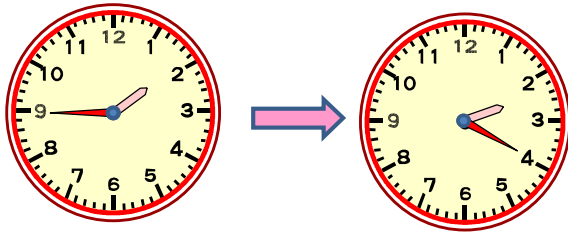
(3) 1日 = 時間

(4) 1分20秒 = 秒

(5) 100分 = 時間 分

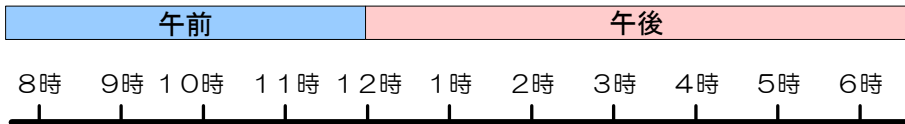
2 どれだけ時間がたったかを答えましょう。

(1) 午後1時45分から午後2時20分まで



答え _____

(2) 午前8時30分から午後4時まで



答え _____

(3) 遠足で学校を午前7時45分に出発して午後3時20分に帰ってきました。遠足に行っていたのは、何時間何分ですか。

答え _____

小3 算数「時こくと時間」 1かい答・かいせつ

1 □にあてはまる数をかきましょう。

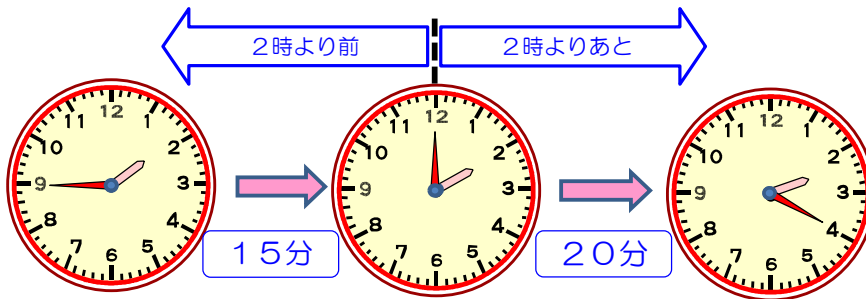
(1) 1分 = 秒 (2) 1時間 = 分

(3) 1日 = 時間 (4) 1分20秒 = 秒

(5) 100分 = 時間 分

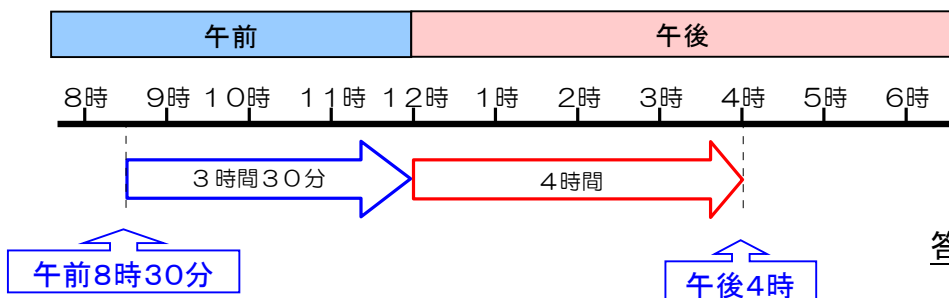
2 どれだけ時間がたったかを答えましょう。

(1) 午後1時45分から午後2時20分まで



「2時より前」と「2時よりあと」に分けて考えましょう。 答え 35分

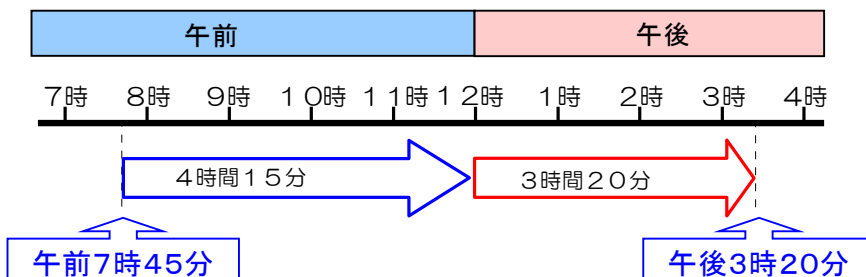
(2) 午前8時30分から午後4時まで



答え 7時間30分

「午前」と「午後」に分けて、考えましょう。

(3) 遠足で学校を午前7時45分に出発して午後3時20分に帰ってきました。遠足に行っていたのは、何時間何分ですか。



答え 7時間35分