
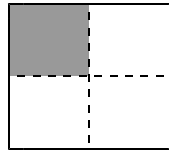


1 もとの 大きさの  $\frac{1}{2}$  は どれですか。すべて かきましょう。




もとの大きさ

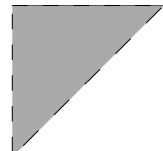
ア



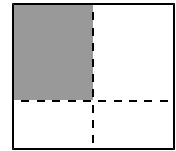
イ



ウ



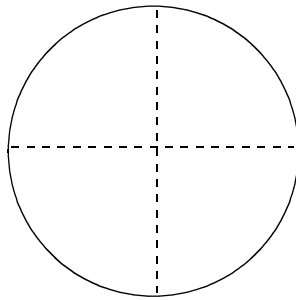
エ



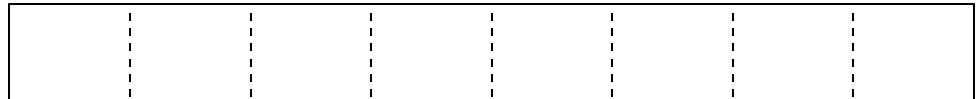
こたえ

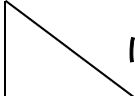
2 つぎの 大きさに <sup>いろ</sup>色を ぬりましょう。

(1)  $\frac{1}{4}$

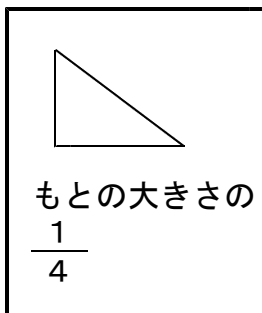


(2)  $\frac{1}{8}$

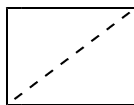


3  は もとの大きさの  $\frac{1}{4}$  です。

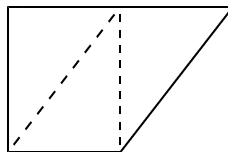
もとの大きさは どれですか。ア～ウの中から えらびましょう。



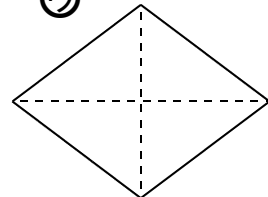
ア



イ



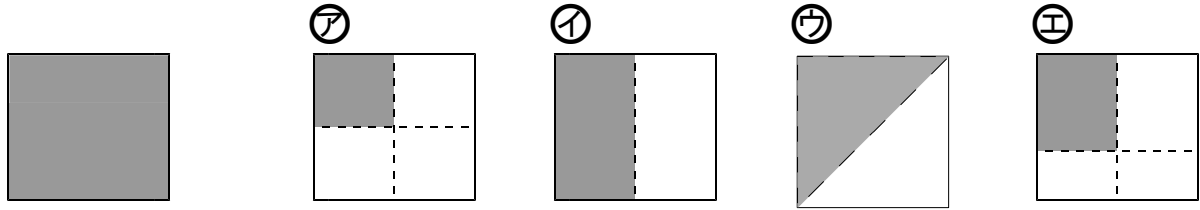
ウ



こたえ

小2 算数「分数」こたえ・せつめい

1 もとの大きさの  $\frac{1}{2}$  は どれですか。すべて かきましょう。



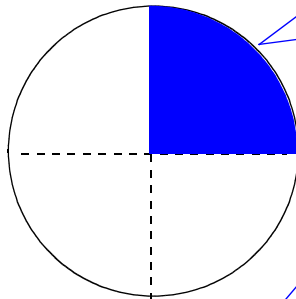
もとの大きさ

こたえ イとウ

もとの大きさを 同じように  
2つに 分けた 1つ分 です。

2 つぎの 大きさに <sup>いろ</sup>色を ぬりましょう。

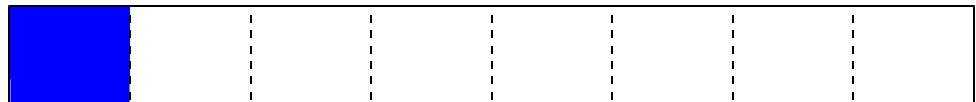
(1)  $\frac{1}{4}$

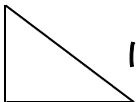


もとの大きさを、同じように 4つに  
分けた 1つ分 です。ぬるばしょは、  
ほかの ばしょでも いいです。

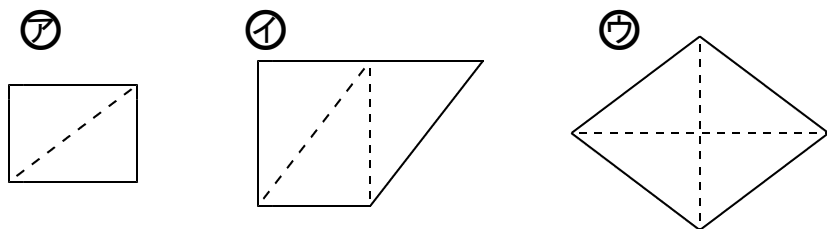
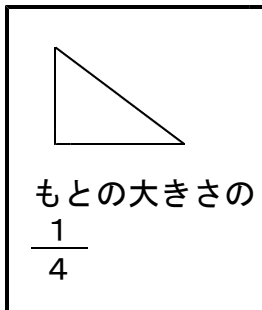
もとの大きさを、同じように 8つに  
分けた 1つ分です。ぬるばしょは、  
ほかの ばしょでも いいです。

(2)  $\frac{1}{8}$

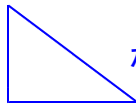


3  は もとの大きさの  $\frac{1}{4}$  です。

もとの大きさは どれですか。ア～ウの中から えらびましょう。



こたえ ウ

 が 4つ分ある  
形を さがします。