

小1 さんすう「おおきさくらべ（1）」

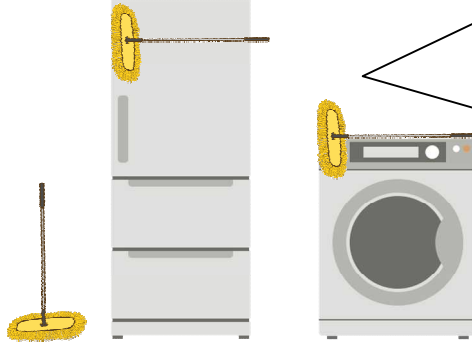
くみ ばん なまえ

1 れいぞうこ と せんたくき の どちらが ながい でしょう。

① たて（たかさ）



② よこ（はば）



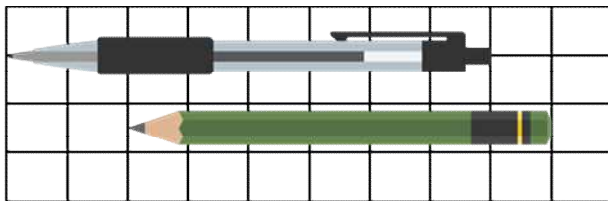
おなじ  
ながさの  
もつぷで  
くらべて  
みたよ。

こたえ

こたえ

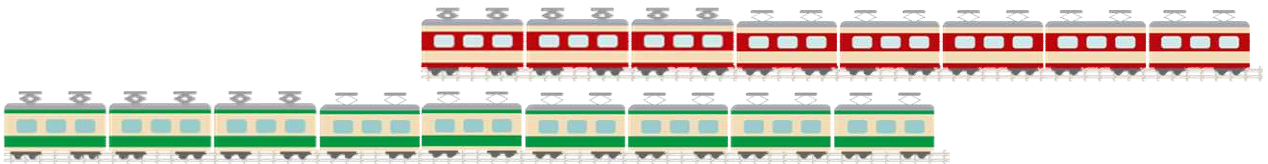
2 ながいのは どちらでしょう。

① ぼおるぺん と えんぴつ



こたえ

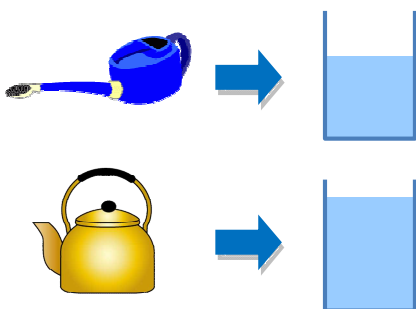
② あかい でんしゃ（うえ） と みどりの でんしゃ（した）



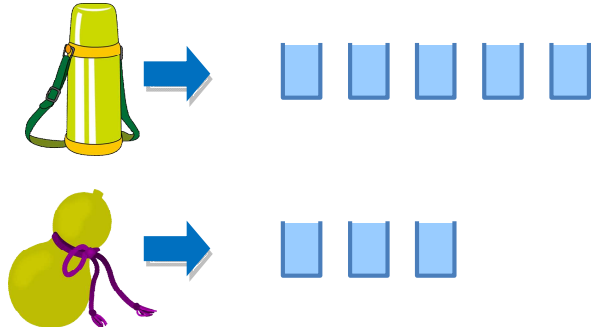
こたえ

3 おおく はいるのは どちらでしょう。

① じょうろ と やかん



② すいとう と ひょうたん



こたえ

こたえ

小1 さんすう「おおきさくらべ（1）」こたえ・せつめい

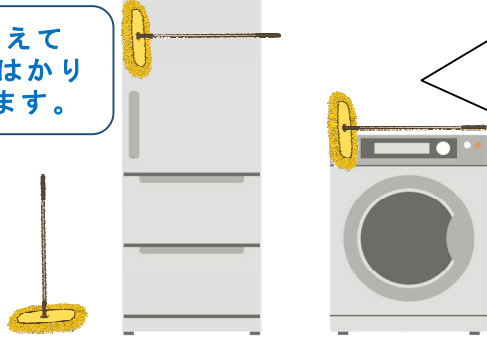
1 れいぞうこ と せんたくき の どちらが ながい でしょう。

① たて（たかさ）



ながさは はしを そろえて  
くらべたり、なにかで はかり  
とって くらべたり します。

② よこ（はば）



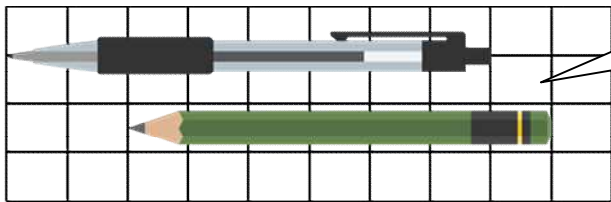
おなじ  
ながさの  
もつぷで  
くらべて  
みたよ。

こたえ れいぞうこ

こたえ せんたくき

2 ながいのは どちらでしょう。

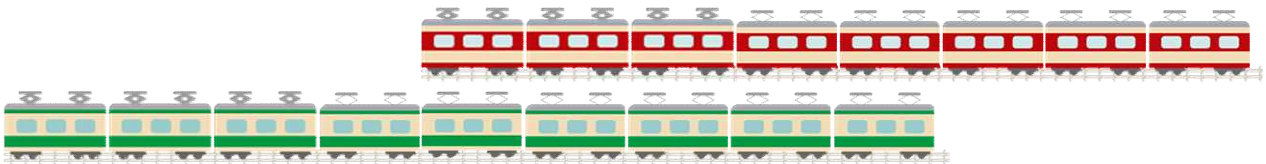
① ぼおるぺん と えんぴつ



しかくいますの  
かずを かぞえよう。  
それぞれ いくつかな。

こたえ ぼおるぺん

② あかい でんしゃ（うえ） と みどりの でんしゃ（した）

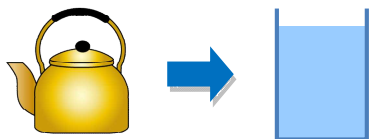
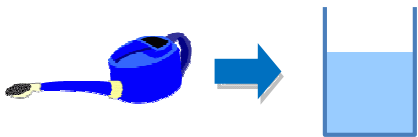


かぞえまちがいに  
きをつけよう。

こたえ みどりの でんしゃ

3 おおく はいるのは どちらでしょう。

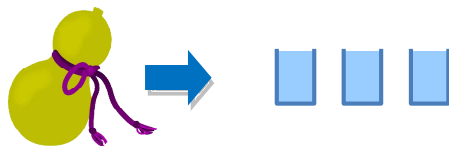
① じょうろ と やかん



おなじ おおきさの こっぷに はいる  
みずの かさで くらべます。

こたえ やかん

② すいとう と ひょうたん



こっぷ なんばい になるか で  
くらべると わかるね。

こたえ すいとう