

小1 さんすう「ひきざん(1)」

くみ ばん なまえ

1 つぎの ひきざんを しましょう。

(1) $2 - 1$

(2) $3 - 2$

(3) $5 - 2$

(4) $4 - 1$

(5) $6 - 4$

(6) $8 - 7$

(7) $8 - 2$

(8) $9 - 4$

(9) $7 - 3$

(10) $10 - 3$


2 せんべいが 8まい あります。

3まい たべると, なんまい のこりますか。


(しき)

こたえ

3 かずの ちがいは いくつですか。



(しき)



こたえ

小1 さんすう「ひきざん(1)」こたえ・せつめい

1 つぎの ひきざんを しましょう。

(1) $2 - 1 = 1$

(2) $3 - 2 = 1$

(3) $5 - 2 = 3$

(4) $4 - 1 = 3$

(5) $6 - 4 = 2$

(6) $8 - 7 = 1$

(7) $8 - 2 = 6$

(8) $9 - 4 = 5$

(9) $7 - 3 = 4$

(10) $10 - 3 = 7$

2 せんべいが 8まい あります。



3まい たべると、 なんまい のこりますか。

(しき) $8 - 3 = 5$

いくつ のこるかを かんがえるときは、
ひきざんに なります。

こたえ 5まい

3 かずの ちがいは いくつですか。



(しき) $6 - 2 = 4$

かずの ちがいを かんがえるときも
ひきざんに なります。

おおきい かずから ちいさい
かずを ひきます。

こたえ 4こ (4つ)