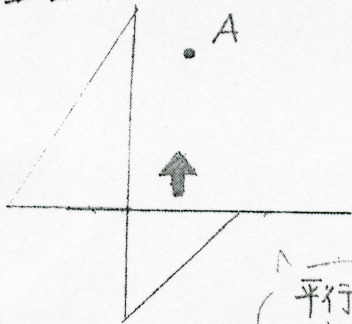


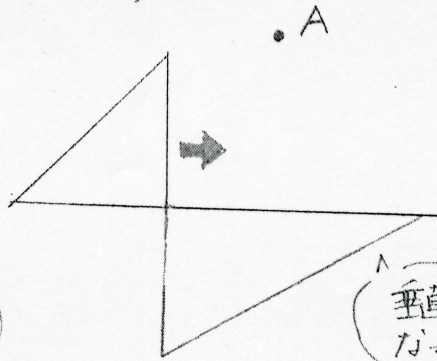
〈垂直や平行な直線のかき方〉

○垂直



平行になっちゃう。

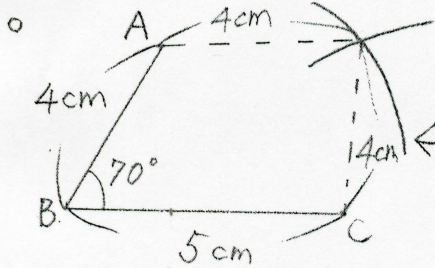
○平行



垂直になっちゃう。

← どちらの三角定規を動かすのか曖昧

〈平行四辺形のかき方〉

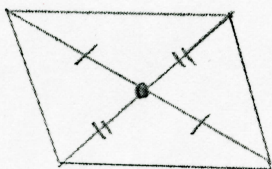


(コンパスを使う場合)

← コンパスで5cm(4cm)の長さを取り、頂点C(頂点A)に針をおいて印をつけてしまう。

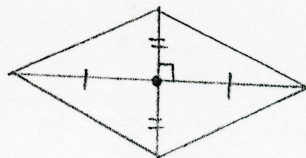
〈四角形の対角線とその性質〉

↑ 平行四辺形とひし形の対角線の交わり方が正しく覚えられない。



平行四辺形

2本の対角線は、それぞれのまん中の点で交わる。



ひし形

2本の対角線は垂直で、それぞれのまん中の点で交わる。



(誤) 平行四辺形とひし形の性質を逆に覚えている。