

平成 30 年度  
推薦入学 小論文試験問題  
(100 点)

千葉県立保健医療大学 健康科学部

諸注意

1. 問題冊子は、表紙を除き 6 頁である
2. 問題冊子及び解答用紙の印刷が不鮮明などの場合には、手を挙げて監督員に知らせること
3. 解答は、必ず黒の鉛筆（シャープペンシルも可）で記入すること
4. 試験終了後、問題冊子および下書き用紙は持ち帰ること

**問題** 高齢化に関連した、次ページからの図1～3と文章を読み、問1および問2に答えなさい。

ただし、原稿用紙では数字や記号は一文字につき一マス使用すること。

[以下 余白]

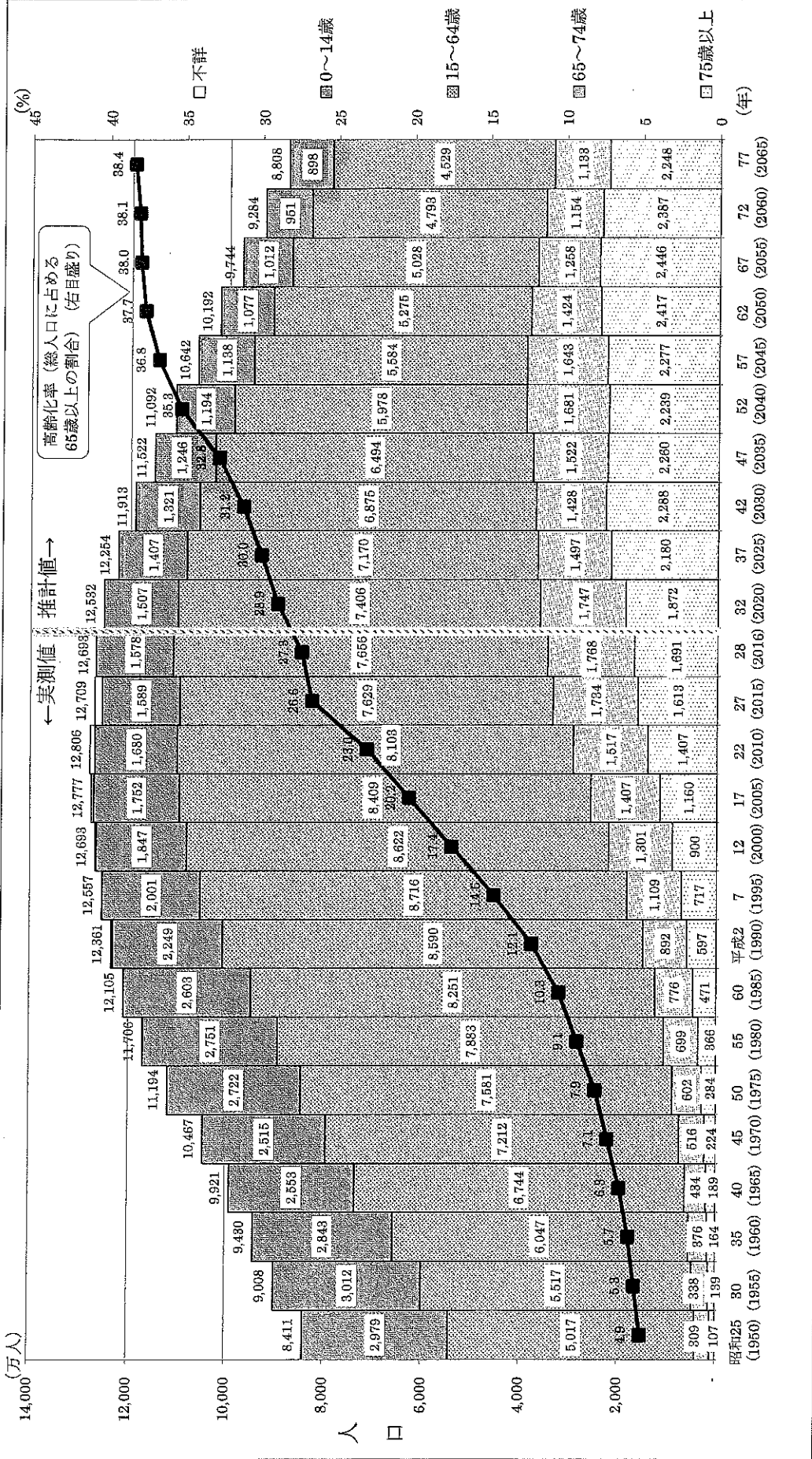


図1 高齢化の推移と将来推計

内閣府：平成29年版高齢社会白書 図1-1-4参照

(URL [http://www8.cao.go.jp/kourei/whitepaper/w-2017/html/zenbun/sl1\\_1\\_1.html](http://www8.cao.go.jp/kourei/whitepaper/w-2017/html/zenbun/sl1_1_1.html) よりダウンロードして作成) 2017/10/5閲覧

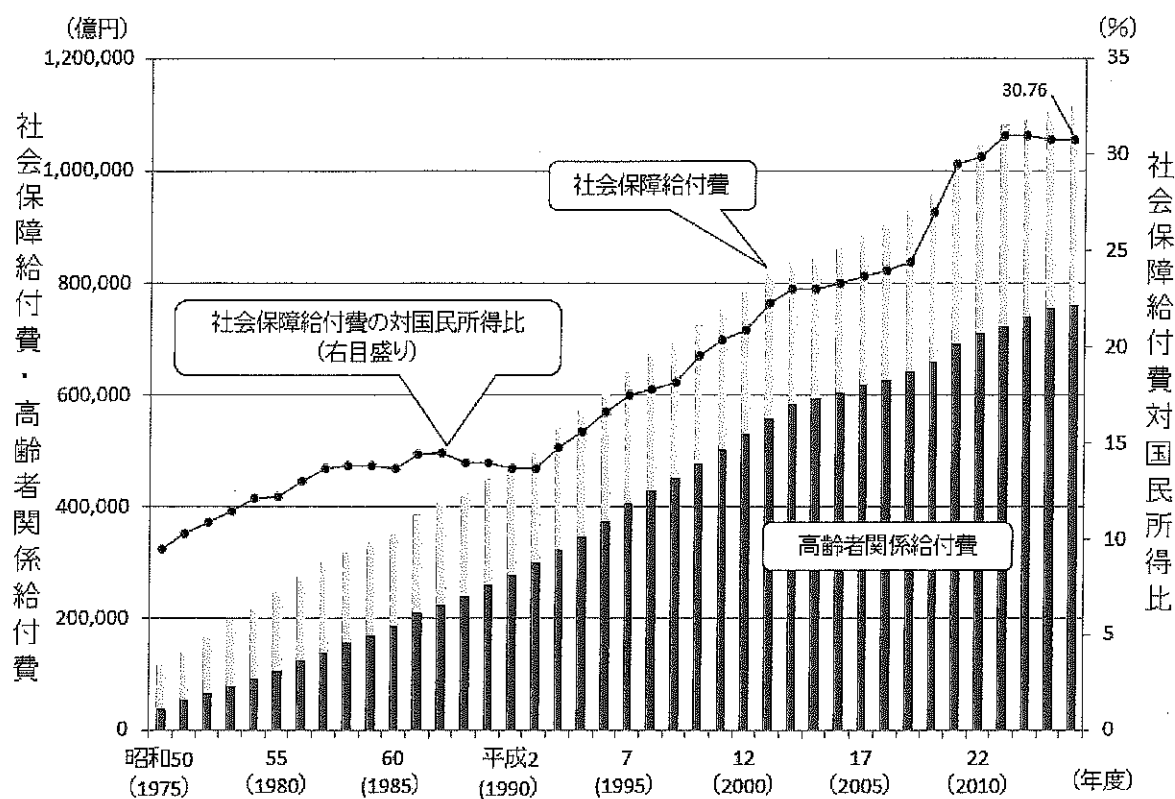


図2 社会保障給付費の推移

注1：高齢者関係給付費とは、年金保険給付費、高齢者医療給付費、老人福祉サービス給付費及び高年齢雇用継続給付費を合わせたもの。

注2：高齢者医療給付費には、平成19年度までは旧老人保健制度からの医療給付額、平成20年度は後期高齢者医療制度からの医療給付額及び旧老人保健制度からの平成20年3月分の医療給付額等が含まれている。

内閣府：平成29年版高齢社会白書 図1-1-11 参照

(URL [http://www8.cao.go.jp/kourei/whitepaper/w-2017/html/zenbun/s1\\_1\\_4.html](http://www8.cao.go.jp/kourei/whitepaper/w-2017/html/zenbun/s1_1_4.html) よりダウンロードして作成) 2017/10/5 閲覧

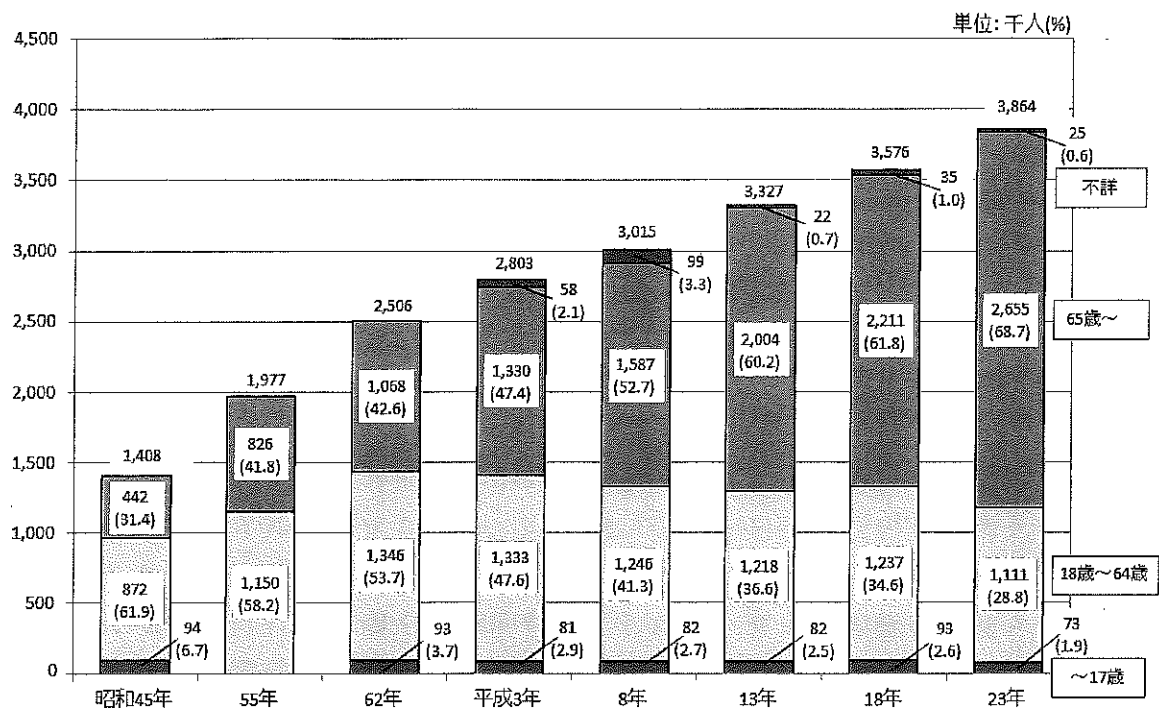


図3 年齢階層別障害者数の推移（身体障害児・者（在宅））

注：昭和55年は身体障害児（0～17歳）に係る調査を行っていない。

内閣府：平成28年版障害者白書（全体版）図2参照

（URL [http://www8.cao.go.jp/shougai/data/data\\_h28/zuhyo02.html](http://www8.cao.go.jp/shougai/data/data_h28/zuhyo02.html) よりダウンロードして作成） 2017/10/5 閲覧

著作権の関係上、省略します。

著作権の関係上、省略します。

(出典： 毎日新聞デジタル版 2017年6月23日朝刊 11頁、 一部抜粋)

URL <https://mainichi.jp/articles/20170623/ddm/004/070/003000c> 2017/10/5 閲覧

問1 わが国の現状を示した図について、以下の問いに答えなさい。

問1-1 図1から読み取れることを40字以上60字以内で述べなさい。

問1-2 図2から読み取れることを40字以上60字以内で述べなさい。

問1-3 図3から読み取れることを40字以上60字以内で述べなさい。

問2 図1～3および文章を参考に「健康寿命」について、将来、保健医療職を目指すあなたの考えを述べなさい（550字以上600字以内）。

なお、図1 高齢化の推移と将来推計 は「平成29年版高齢社会白書」からのダウンロードデータを用いて、白書の図1-1-4に準拠して作成した。

図2 社会保障給付費の推移 は「平成29年版高齢社会白書」からのダウンロードデータを用いて、白書の図1-1-11に準拠して作成した。

図3 年齢階別障害者数の推移（身体障害児・者（在宅））は「平成28年度障害者施策に関する基礎データ集」からのダウンロードデータを用いて、図表2 年齢階層別障害者数の推移（身体障害児・者（在宅））に準拠して作成した。