

試験開始の指示があるまで、この問題冊子の中を見てはいけません。

令和 6 年度
一般選抜 小論文試験問題
〔 150 点 〕
〔 60 分 〕

千葉県立保健医療大学 健康科学部

注意事項

1. 試験開始の合図があるまでは、この問題冊子を開いてはいけな
い。
2. 問題冊子は、表紙を除き 7 頁である。
3. 問題冊子及び解答用紙の印刷が不鮮明などの場合には、手を挙
げて監督員に知らせること。
4. 解答は、必ず黒の鉛筆（シャープペンシルも可）で解答用紙に
記入すること。
5. 試験終了後、問題冊子および下書き用紙は持ち帰ること。
6. 不正行為に対しては厳正に対処する。

問題 次ページからの図および課題文をもとに、以下の問いに答えなさい。

問 1 課題文を読んで、下線部分の空欄 (①) と (②) に入る適切な言葉を書きなさい。

問 2 図 1 に示されている、男女に共通した特徴を 3 つ挙げなさい。

問 3 図 2 ～図 5 を見て、図 1 の令和 4 年度の結果が得られた要因について、あなたが考察したことを 2 0 1 字以上 2 5 0 字以内で述べなさい。

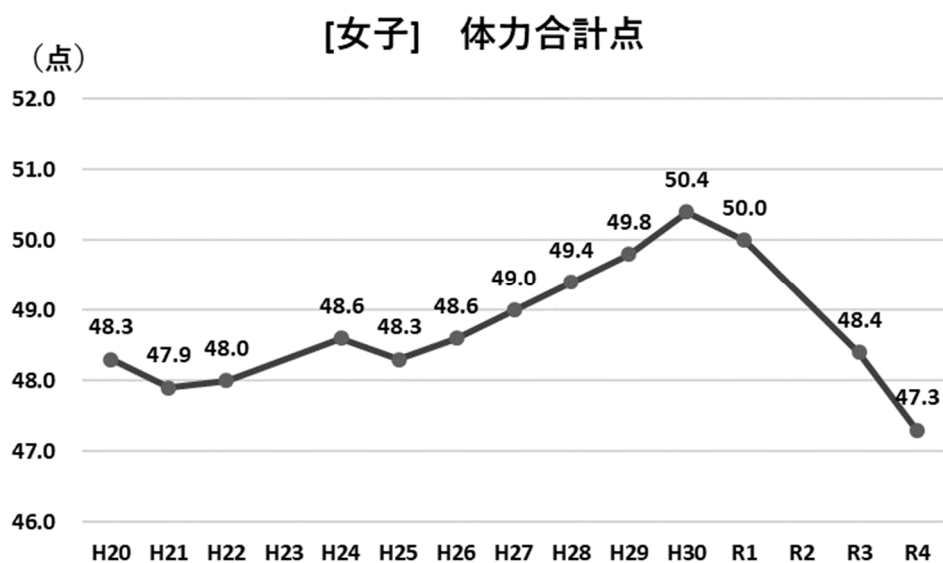
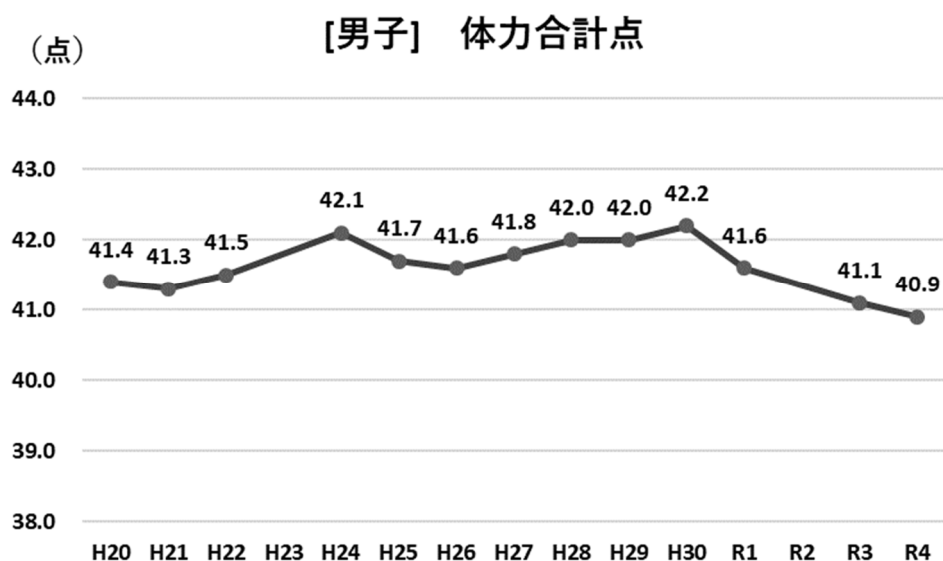
問 4 課題文と問 3 であなたが述べた内容をふまえて、現代社会における児童生徒の生活習慣の課題を複数挙げ、それを解決するための改善策について、あなたの考えを 4 5 1 字以上 5 0 0 字以内で述べなさい。ただし、原稿用紙の使い方に従うこと。

課題文

著作権の関係上、省略します。

出典：日本経済新聞 2022年7月13日 電子版（一部改変）

図1 中学生の体力合計点*の状況
 (中学校2年生約9.1万人を対象とした調査結果)



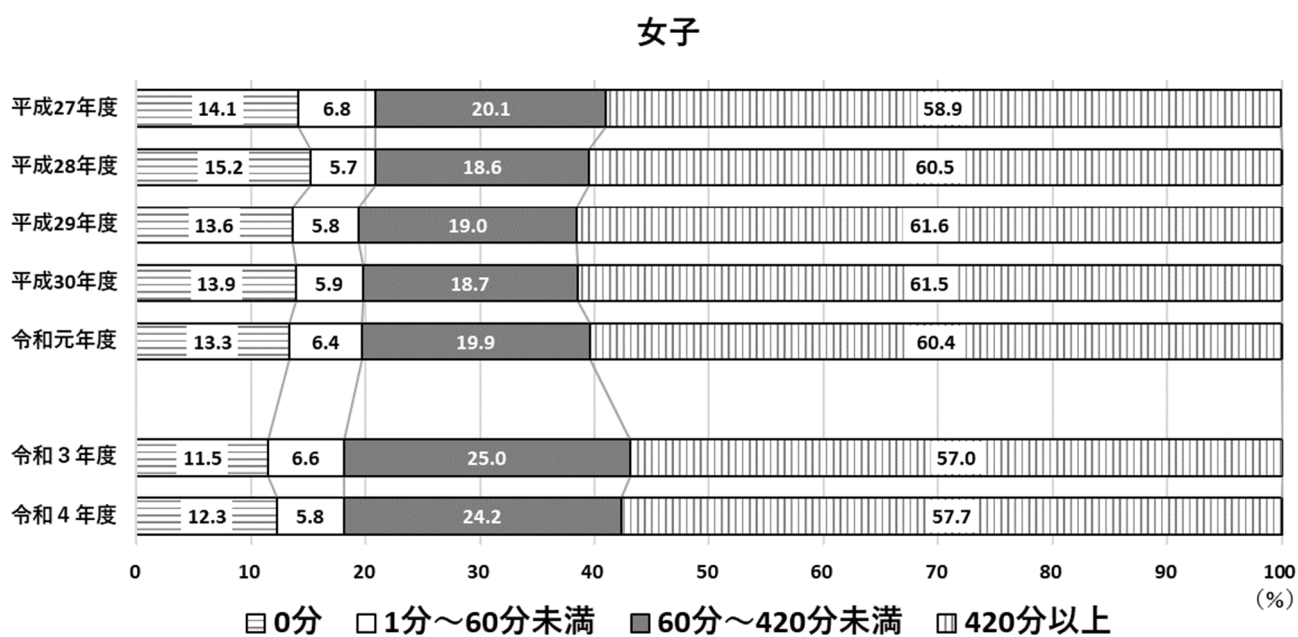
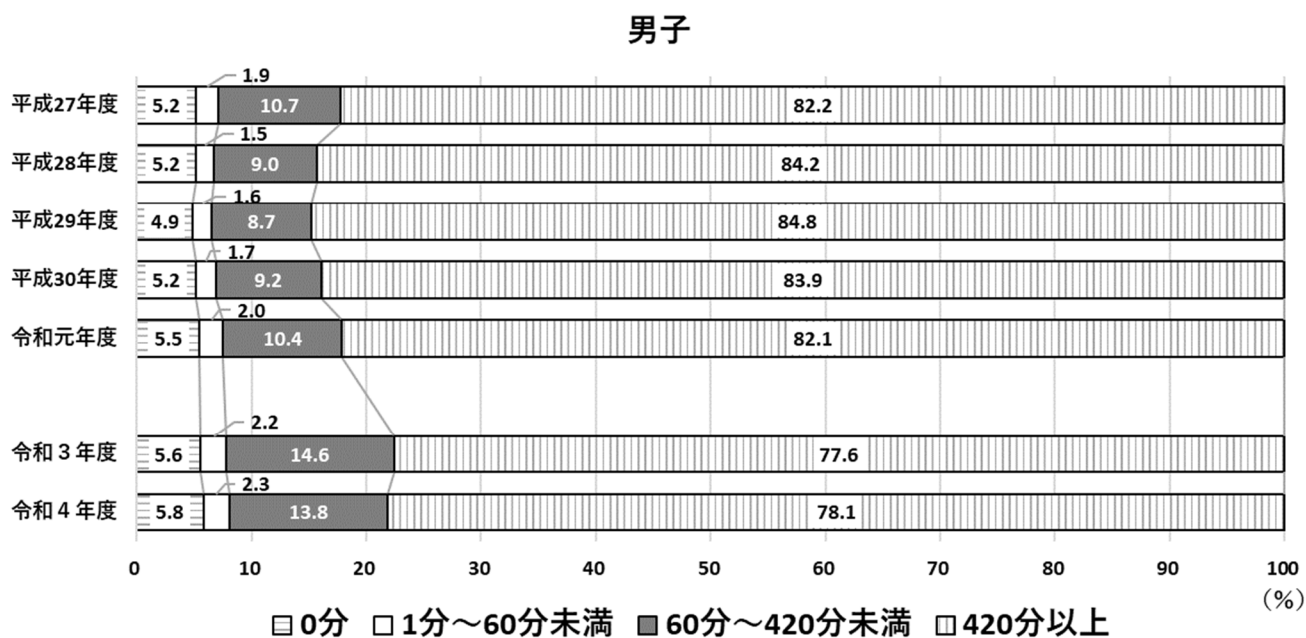
※体力合計点；握力、上体起こし、長座体前屈、反復横とび、持久走（男子1500m、女子1000m）又は20mシャトルラン、50m走、立ち幅とび、ハンドボール投げの8種目の結果を男女別に10点満点（1～10点）で換算し、合計80点満点で数値化したもの。

※令和2年度は、感染症の影響により調査を中止

※平成23年度は、データなし

出典：「スポーツ庁 令和4年度 全国体力・運動能力、運動習慣等調査の結果（概要）について」を基に作成（一部改変）

図2 中学生の1週間の総運動時間の経年変化
(中学校2年生約91万人を対象とした調査結果)

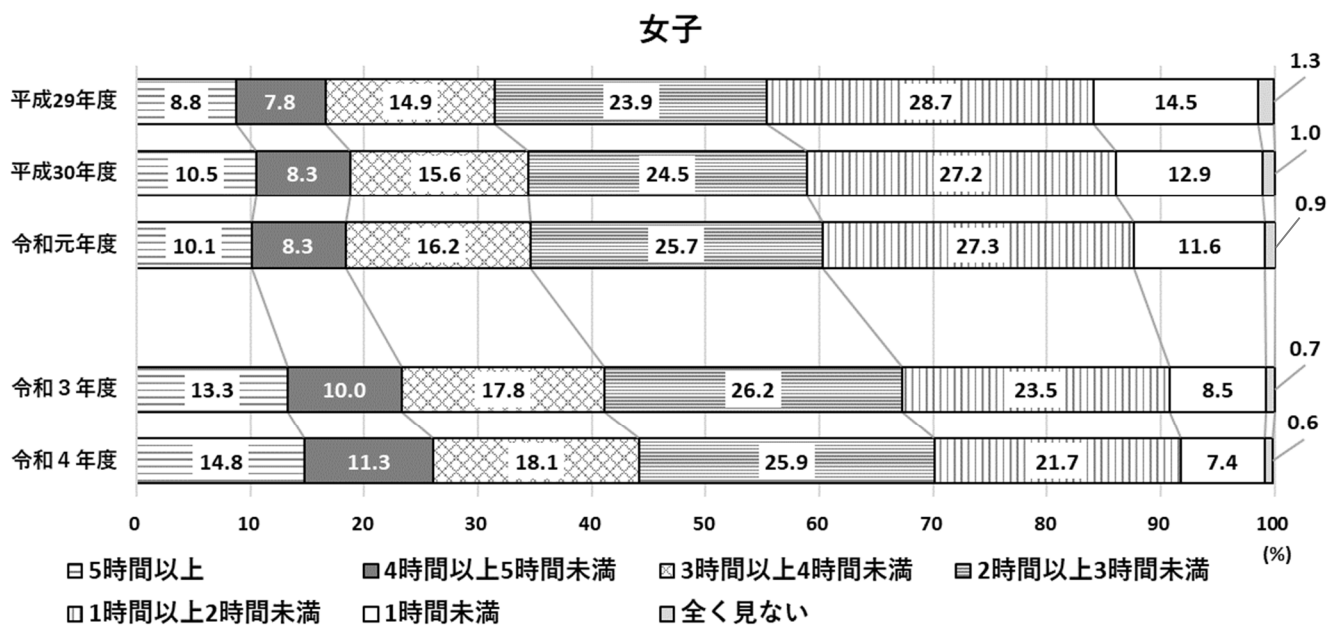
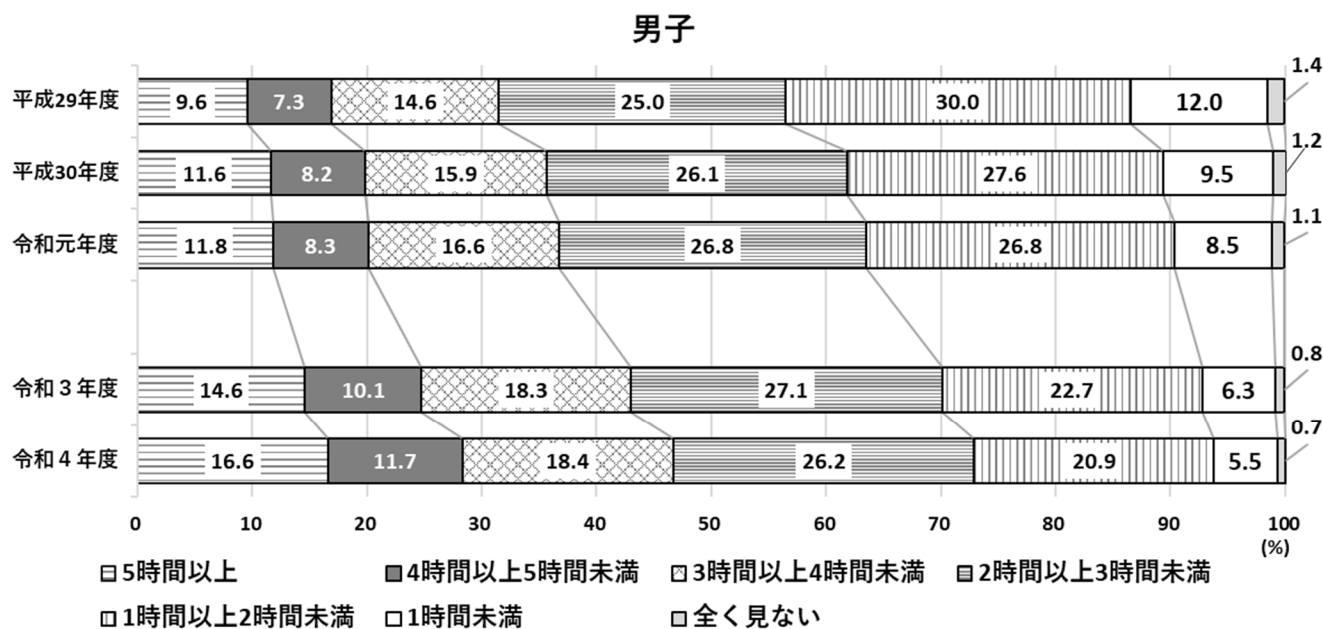


※令和2年度は、感染症の影響により調査を中止

出典：「スポーツ庁 令和4年度全国体力・運動能力、運動習慣等調査報告書」
を基に作成（一部改変）

図3 中学生のテレビやゲームの画面を見る時間の経年変化

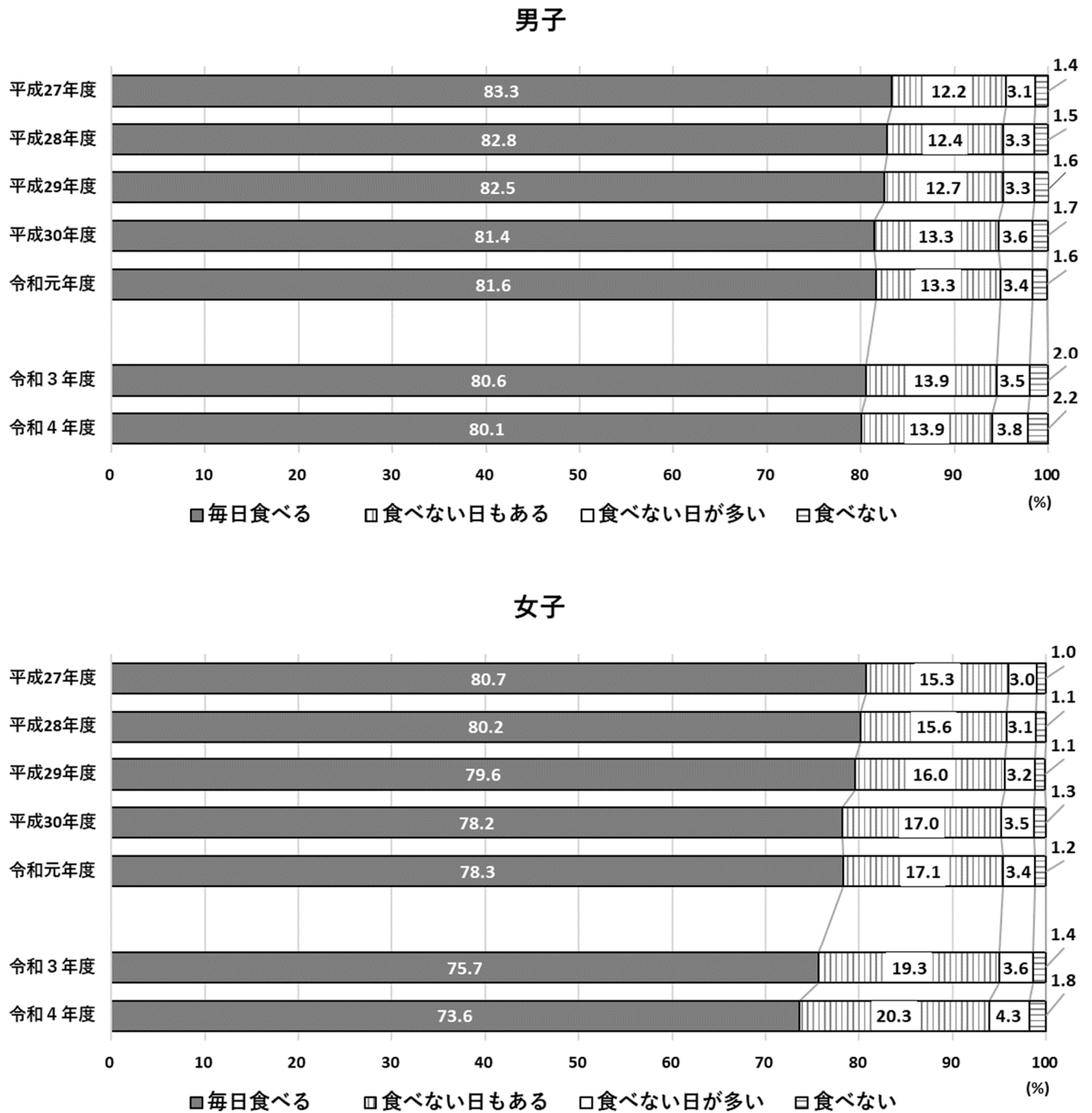
(中学校2年生約91万人を対象とした調査結果)



※令和2年度は、感染症の影響により調査を中止

出典：「スポーツ庁 令和4年度全国体力・運動能力、運動習慣等調査報告書」
を基に作成（一部改変）

図4 中学生の朝食の摂取状況の経年変化
(中学校2年生約9.1万人を対象とした調査結果)

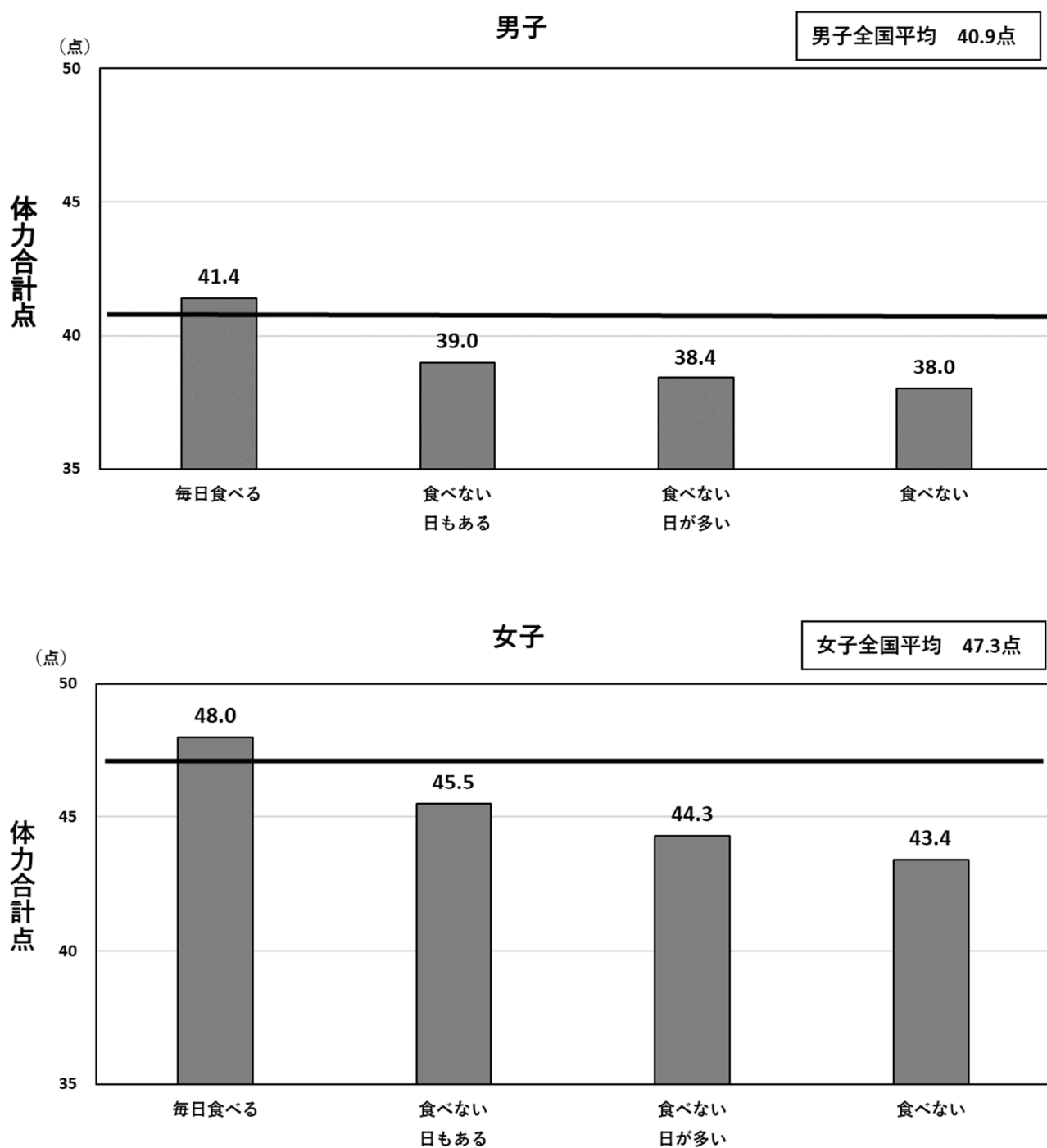


※令和2年度は、感染症の影響により調査を中止

出典：「スポーツ庁 令和4年度全国体力・運動能力、運動習慣等調査報告書」
を基に作成（一部改変）

図5 中学生の朝食の摂取状況と体力合計点との関連

(中学校2年生約91万人を対象とした調査結果)



出典：「スポーツ庁 令和4年度全国体力・運動能力、運動習慣等調査報告書」
を基に作成（一部改変）